

1080715 - C1

Class - X

कक्षा - X

SOCIAL SCIENCE

सामाजिक विज्ञान

Time : 3 hours

समय : 3 घंटे

Maximum Marks : 80

अधिकतम अंक : 80

Total No. of Pages : 14

कुल पृष्ठों की संख्या : 14

**Instructions :**

1. The question paper has 36 questions in all. All questions are **compulsory**.
2. Marks are indicated against each question.
3. This question paper consists of **two** parts i.e. **Part-I** and **Part-II**. Part-I of this question paper contains Multiple Choice Questions (MCQs) from serial number 1 to 16 of 1 mark each. These sixteen questions of Part-I are to be answered on a separate sheet provided. This part has to be completed in first **30 minutes only** and the answer sheet must be handed over to the invigilator before starting Part-II.
4. In Part-II of the question paper, there are 20 questions from serial no. 17 to 36. These questions are to be attempted in **2 hours and 30 minutes**. This part should be attempted only after the stipulated time given for Part-I.
5. Questions from serial number 17 to 31 are 3 marks questions. Answer of these questions should not exceed **80 words** each.
6. Questions from serial number 32 to 35 are 4 marks questions. Answer of these questions should not exceed **100 words** each.
7. Question number 36 is a map question of 3 marks from Geography only. After completion, attach the map inside your answer book.
8. An additional 15 minutes time has been allotted to read this question paper only.

**निर्देश :**

1. इस प्रश्न-पत्र में कुल 36 प्रश्न हैं। सभी प्रश्न **अनिवार्य** हैं।
2. प्रत्येक प्रश्न के निर्धारित अंक प्रश्न के सामने दिये गये हैं।
3. यह प्रश्न-पत्र **दो** भागों में विभाजित है : **भाग-I** और **भाग-II**। भाग-I में प्रश्न संख्या 1 से 16 तक है। इन बहु-विकल्पीय प्रश्नों के उत्तर अलग से दी गई उत्तर पुस्तिका में लिखें। इसके लिये समय अवधि आधा घण्टा तय है। अपने उत्तर पूरा करने के बाद उत्तर पुस्तिका अपने निरीक्षक को सौंप दें। तब भाग दो आरंभ करें।
4. भाग-II प्रश्न-पत्र में 20 प्रश्न दिये गये हैं। प्रश्न 17 से 36 प्रश्नों को हल करने की अवधि **2 घंटे 30 मिनट** है।
5. प्रश्न संख्या 17 से 31 तक के प्रत्येक प्रश्न **तीन-तीन** अंकों के हैं। इन प्रश्नों के उत्तर **80 शब्दों** से अधिक न हो।
6. प्रश्न संख्या 32 से 35 तक के प्रत्येक प्रश्न **चार-चार** अंकों के हैं। इन प्रश्नों के उत्तर **100 शब्दों** से अधिक न हो।
7. प्रश्न संख्या 36 मानचित्र भूगोल विषय का 3 अंकों का है। प्रश्न पूरा होने पर मानचित्र को अपनी उत्तर-पुस्तिका के भीतर संलग्न करें।
8. इस प्रश्न-पत्र को पढ़ने के लिए 15 मिनट का समय दिया गया है। इस अवधि के दौरान छात्र केवल प्रश्न-पत्र को पढ़ेंगे और वे उत्तर-पुस्तिका पर कोई उत्तर नहीं लिखेंगे।

**PART - I**

1. Which one of the following was the world's first mass produced car ? 1  
(a) 'T' model car (b) Maruti car  
(c) B M W car (d) None of the above

**OR**

- Who established six Joint stock companies in India during 1830-40 ? 1  
(a) Jamsed Jee Nuserwan Jee Tata  
(b) Dinshaw petit  
(c) Seth Hukumchand  
(d) Dwarkanath Tagore

**OR**

- Who among the following produced the film Raja Harishchandra in 1913 ? 1  
(a) Dada Saheb Phalke  
(b) Harishchandra Sakharam Bhatwadekar  
(c) Ashok Kumar  
(d) None of the above

2. The United Nations Monetary and Financial Conference was held at Breten Woods in (USA) in the year : 1  
(a) 1942 (b) 1943  
(c) 1944 (d) 1945

**OR**

- Which one of the following ports decayed by the end of the eighteenth century ? 1  
(a) Calcutta (b) Goa  
(c) Surat (d) None of the above

**OR**

- Which one of the following was used in Tollygunge rice mills in place of coal ? 1  
(a) petrol (b) wood  
(c) rice husk (d) All of the above

3. When did the printing press first came to Goa with Portuguese missionaries ? 1  
(a) Mid eighteenth century  
(b) Mid seventeenth century  
(c) Mid sixteenth century  
(d) Mid fifteenth century

**OR**

Which one of the following is the first modern novel in Malayalam novels published in 1889. 1

- (a) Indulekha (b) Henrieta Temple  
(c) Yamuna Paryatan (d) None of the above

4. Who started to edit the Bengal Gazettes weekly in 1780. 1

- (a) James Augustus Hickey  
(b) Richard M Ho  
(c) Bal Gangadhar Tilak  
(d) None of the above

**OR**

Whose writings in Hindi created a novel reading public ? 1

- (a) Premchand (b) Shrinivas Das  
(c) Devki Nandan Khatri (d) Bhartendu Harish Chandra

5. What is the percentage share of plains in the total land area ? 1

- (a) 43 % (b) 23 %  
(c) 33 % (d) 27 %

6. Periyar Tiger Reserve is situated in which state of India ? 1

- (a) Jammu & Kashmir (b) Kerala  
(c) Tamil Nadu (d) Madhya Pradesh

7. Which of the following is a source of Fresh water ? 1

- (a) Precipitation (b) Surface run off  
(c) Ground water (d) All the above

8. Which country is the largest producer of fruits and vegetables in the world ? 1

- (a) Canada (b) USA  
(c) Pakistan (d) India

9. When was 'sinhla' recognised as the only official language of Sri Lanka ? 1

- (a) 1954 (b) 1955  
(c) 1956 (d) 1957

10. Which ethnic group constituted a majority in Brussels ? 1  
 (a) French speaking (b) Dutch speaking  
 (c) German speaking (d) English speaking
11. Which one of the following countries is an example of Holding together federation ? 1  
 (a) India (b) U.S.A  
 (c) Australia (d) Switzerland
12. The literacy rate among Indian women is approximately : 1  
 (a) 54% (b) 55% (c) 56% (d) 57%
13. Which of the following is a non renewable resource ? 1  
 (a) Forest (b) Water  
 (c) Crude oil (d) Wind energy
14. The average monthly income of four families is Rs. 5000. If the income of three families is Rs 4000 Rs 7000 and Rs 3000 respectively, what is the monthly income of the fourth family ? 1  
 (a) Rs 7000 (b) Rs 6000  
 (c) Rs 5000 (d) Rs 4000
15. Underemployment occurs when people : 1  
 (a) do not want to work  
 (b) are working in a lazy manner  
 (c) are working less than what they are capable of doing  
 (d) are not paid for their work
16. When was NREGA enacted ? 1  
 (a) 2004 (b) 2005 (c) 2006 (d) 2007

#### PART - II

17. What was 'corn law' ? Who forced the abolition of the corn law ? 1½+1½=3  
**OR**  
 Explain any three problems faced by Indian weavers in 1850s 3x1=3  
**OR**  
 Highlight any three problems faced by people who migrated to Bombay ? 3x1=3

18. Explain the visual culture (picture, calendar & cartoon etc. ) in print which developed in the nineteenth century. 3

OR

Which type of problems were highlighted by the novelist, Charls Dickens through his novel ? Explain from any of his two novels.  $1\frac{1}{2}+1\frac{1}{2}=3$

19. Explain the regulations passed by the British Government to control press freedom. 3

OR

Characters of Prermchand's novel were drawn from various strata of society. Explain with suitable example. 3

20. Explain any three different roles of women regarding print ?  $3 \times 1 = 3$

OR

What was the main theme of novel "Priksha Guru" written by Srinivas Das. Explain the expectation from society as described in this novel ?

21. What do you mean by conservation of resources ? Why is it essential ? Give any two reasons.  $1+2=3$

22. Explain the three different categories of forests classified by the forest department.  $3 \times 1 = 3$

23. Describe different methods of the traditional rain water harvesting in India. 3

24. Why is power sharing desirable in a democracy ? Explain any three reasons.  $3 \times 1 = 3$

25. "Social divisions exist in the most countries of the world". Explain. 3

26. How do social divisions affect politics ? Explain. 3

27. "Women are discriminated or disadvantaged in India. "Justify the statement with any three suitable examples.  $3 \times 1 = 3$

28. Consequences of environmental degradation do not respect national or state boundaries". Justify the statement.  $3 \times 1 = 3$

29. Study the following table and answer the following questions :

2+1=3

State	Per capita income ( in Rs.) 2002 - 2003
Punjab	26000
Keral	22800
Bihar	5700

- (a) Which state has the highest per capita income and why ?  
 (b) Calculate the difference of per capita income between Punjab and Bihar.

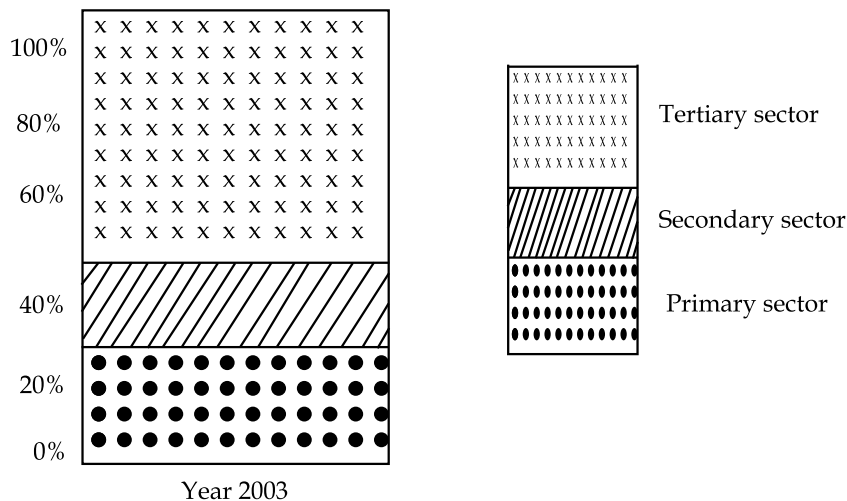
30. Suggest any three ways to create more employment in rural sector.

3x1=3

31. Answer the following questions after carefully studying the graph given below :

Shares of sectors in GDP (%).

1+2=3



- (a) Which sector shares the largest % in GDP of India ?  
 (b) Give any two reasons of it.

**Note :** question for visual impaired candidates lieu of Q 31

32. Answer the following questions :

Mention any three importance of tertiary sector. Highlight any four consequences of the great depression of 1929 on India.

4

**OR**

How did industrial production in India increase during the First World War ? Explain.

4

**OR**

Explain the merits and draw backs of underground rail of London.

33. State the geographical conditions required for growing rice and cotton. 2+2=4
34. Write any four characteristics of language policy of India. 2+2=4
35. Distinguish between organised and unorganised sector. 4x1=4
36. Three features with serial no 1 to 3 are shown in the given outline political map of India. Identify these features with the help of the following information and write their correct names on the line marked in the map 1x3=3
- (1) A type of soil
  - (2) A type of forest
  - (3) A food crop

**OR**

Locate and label the following on the same map 1x3=3

- (a) Sunderban National park
  - (b) Sardar Sarovar dam.
  - (c) One sugarcane producing state
36. For blind students only in lieu of Q No 36
- Answer the following questions :
- (a) Sunderban National park located in which state of India ? 1x3=3
  - (b) Hirakud dam is built on which river ?
  - (c) Name any one sugarcane producing state of India.

- o O o -

### खण्ड - I

1. निम्नलिखित में से कौन-सी बृहत उत्पादन से बनी पहली कार थी ? 1
- (a) 'टी' मॉडल कार (b) मारुती कार  
(c) बी.एम.डब्ल्यू. कार (d) उपरोक्त में से कोई नहीं

#### अथवा

- 1830 - 40 के दशक में किसने भारत में 6 संयुक्त उद्यम कंपनियाँ लगाई थी ? 1
- (a) जमशेद जी नुसरवान जी टाटा (b) दिनशाँ पेटिट  
(c) सेठ हुकुम चन्द (d) द्वारकानाथ टैगोर

#### अथवा

- 1913 में राजा हरिश्चन्द्र फिल्म किसने बनाई ? 1
- (a) दादा साहेब फाल्के (b) हरिश्चन्द्र शखाराम भाटवाडेकर  
(c) अशोक कुमार (d) उपरोक्त में से कोई नहीं।

2. यू.एस.ए. में ब्रेटेन वुड्स नामक स्थान पर संयुक्त राष्ट्र मौद्रिक एवं वित्तीय सम्मेलन का आयोजन किस वर्ष में हुआ ? 1
- (a) 1942 (b) 1943 (c) 1944 (d) 1945

#### अथवा

- निम्नलिखित में से कौन-सी बन्दरगाह अठारहवीं सदी के अन्त तक कमजोर पड़ गई ? 1
- (a) कलकत्ता (b) गोवा  
(c) सूरत (d) उपरोक्त में से कोई नहीं।

#### अथवा

- निम्नलिखित में से कौन-सा पदार्थ कोयले के स्थान पर टालीगंज चावल मिल में प्रयोग किया जाता था ? 1
- (a) पेट्रोल (b) लकड़ी (c) चावल का भूसा (d) उपरोक्त सभी

3. पूर्तगालियों के साथ प्रिंटिंग प्रेस गोआ में कब आई ? 1
- (a) अठारहवीं सदी के मध्य में (b) सत्रहवीं सदी के मध्य में  
(c) सोलहवीं सदी के मध्य में (d) पंद्रहवीं सदी के मध्य में

#### अथवा

- निम्नलिखित में से कौन सा उपन्यास 1889 में प्रकाशित मलयालम का पहला आधुनिक उपन्यास है ? 1
- (a) इन्दुलेखा (b) हेनरीएटा टेम्पल  
(c) यमुना पर्यटन (d) उपरोक्त में से कोई नहीं।



4. 1780 में 'बंगाल गजट' नामक साप्ताहिक पत्रिका का संपादन किसने शुरू किया ? 1
- (a) जेम्स आगस्टस हिक्की (b) रिचर्ड एम.हो.  
(c) बाल गंगाधर तिलक (d) उपरोक्त में से कोई नहीं।

**अथवा**

- हिन्दी उपन्यास का पाठक वर्ग किसके लेखन से पैदा हुआ ? 1
- (a) प्रेमचन्द (b) श्रीनिवास दास  
(c) देवकी नन्दन खत्री (d) भारतेन्दु हरिश्चन्द्र

5. कुल भू-क्षेत्र में मैदान का हिस्सा कितने प्रतिशत है ? 1
- (a) 43 % (b) 23 % (c) 33 % (d) 27 %

6. पेरियार बाघ रिजर्व किस राज्य में स्थित है ? 1
- (a) जम्मू एवं कश्मीर (b) केरल  
(c) तमिलनाडु (d) मध्य प्रदेश

7. निम्नलिखित में से कौन सा अलवणीय जल का स्रोत है ? 1
- (a) वर्षण (b) सतही जल (c) भौमजल (d) उपरोक्त सभी।

8. कौन सा देश विश्व में फल एवं सब्जियों का सबसे बड़ा उत्पादक है ? 1
- (a) कनाडा (b) यू.एस.ए. (c) पाकिस्तान (d) भारत

9. 'सिंहला' को श्रीलंका की राजभाषा किस वर्ष में घोषित किया गया ? 1
- (a) 1954 (b) 1955 (c) 1956 (d) 1957

10. कौन सा जातीय समूह ब्रूसेल्स में बहुसंख्यक समूह है ? 1
- (a) फ्रांसीसी भाषी (b) डच भाषी  
(c) जर्मन भाषी (d) इंग्लिश भाषी

11. निम्नलिखित में से कौन सा देश 'सबको साथ लेकर चलने वाला संघ' का उदाहरण है ? 1
- (a) भारत (b) यू.एस.ए. (c) आस्ट्रेलिया (d) स्विट्जरलैण्ड

12. भारतीय महिलाओं में साक्षरता दर लगभग कितने प्रतिशत है ? 1  
 (a) 54 % (b) 55 % (c) 56 % (d) 57 %
13. निम्नलिखित में से कौन सा गैर नवीकरणीय संसाधन है ? 1  
 (a) वन (b) जल (c) खनिज तेल (d) वायु ऊर्जा
14. चार परिवारों की औसत आय 5000 रुपये मासिक हैं। अगर तीन परिवारों की आय क्रमशः 4000, 7000 और 3000 रुपये मासिक हो, तो चौथे परिवार की मासिक आय कितनी होगी ? 1  
 (a) 7000 रुपये (b) 6000 रुपये (c) 5000 रुपये (d) 4000 रुपये
15. अल्प बेरोजगारी तब होती है जब लोग : 1  
 (a) काम करना नहीं चाहते हैं। (b) सुस्त ढंग से काम कर रहे हैं।  
 (c) अपनी क्षमता से कम काम कर रहे हैं। (d) काम के लिए भुगतान से वंचित रह जाते हैं।
16. एन.आर.इ.जी.ए. (राष्ट्रीय ग्रामीण रोजगार गारंटी अधिनियम) कब लागू किया गया ? 1  
 (a) 2004 (b) 2005 (c) 2006 (d) 2007

### खण्ड - II

17. कार्न लॉ क्या था ? किन लोगों ने 'कार्न लॉ' को समाप्त करने हेतु दबाव डाला ? 1½+1½=3

**अथवा**

1850 के दशक में भारतीय बुनकरों की किन्हीं तीन प्रमुख समस्याओं की व्याख्या कीजिए। 3x1=3

**अथवा**

स्थानान्तरित होकर बंबई आने वाले लोगों की किन्हीं तीन समस्याओं को उजागर कीजिए। 3x1=3

18. 19 वीं शताब्दी में विकसित प्रिन्ट में दृश्य संस्कृति (चित्र, कैलेन्डर, कार्टून) की व्याख्या कीजिए। 3

**अथवा**

चार्ल्स डिकेन्स ने अपने उपन्यासों के माध्यम से किस प्रकार के समस्याओं को उजागर किया है ? उसके किन्हीं दो उपन्यासों से उदाहरण देकर व्याख्या कीजिए। 1½+1½=3

19. ब्रिटिश सरकार द्वारा पास किन्हीं तीन अधिनियमों की व्याख्या कीजिए जो प्रेस की स्वतंत्रता की प्रतिबंधित करता हो। 3

**अथवा**

प्रेमचन्द्र के उपन्यासों के पात्र समाज के विभिन्न वर्गों से लिए गए हैं। उपयुक्त उदाहरण की सहायता से स्पष्ट कीजिए। 3

20. मुद्रण में महिलाओं के किन्हीं तीन विभिन्न भूमिकाओं की व्याख्या कीजिए। 3x1=3

**अथवा**

श्रीनिवास दास द्वारा लिखित उपन्यास परीक्षागुरु का मुख्य सार क्या है? इस उपन्यास में समाज से की गई अपेक्षाओं की व्याख्या कीजिए।

21. संसाधन संरक्षण से आप क्या समझते हैं? यह क्यों आवश्यक है? कोई दो कारण बताइए। 1+2=3

22. वन विभाग द्वारा वर्गीकृत किए गए वनों के विभिन्न प्रकारों की व्याख्या कीजिए। 3x1=3

23. भारत के पारम्परिक वर्षा जल संग्रहण की विभिन्न विधियों का वर्णन कीजिए। 3

24. लोकतंत्र में सत्ता में साझेदारी क्यों वांछनीय है? किन्हीं तीन कारणों की व्याख्या कीजिए। 3x1=3

25. “सामाजिक विभाजन विश्व के अधिकांश देशों में है”। व्याख्या कीजिए। 3

26. सामाजिक विभाजन किस तरह से राजनीति को प्रभावित करता है? व्याख्या कीजिए। 3

27. “भारत में स्त्रियों के साथ भेदभाव पूर्ण व्यवहार किया जाता है।” कोई तीन उपयुक्त उदाहरण देकर इस कथन की पुष्टि कीजिए। 3x1=3

28. पर्यावरण के निम्नीकरण के परिणाम किसी राष्ट्रीय सीमा से बँधे हुए नहीं हैं? इस कथन की पुष्टि कीजिए। 3

29. नीचे दी गई तालिका का अध्ययन कीजिए तथा निम्नलिखित प्रश्नों के उत्तर दीजिए। 2+1=3

राज्य	प्रति व्यक्ति आय ( रुपये में )
पंजाब	26000
केरल	22800
बिहार	5700

(a) किस राज्य की प्रति व्यक्ति आय सर्वाधिक है और क्यों?

(b) पंजाब और बिहार की प्रति व्यक्ति आय में अन्तर निकालिए।

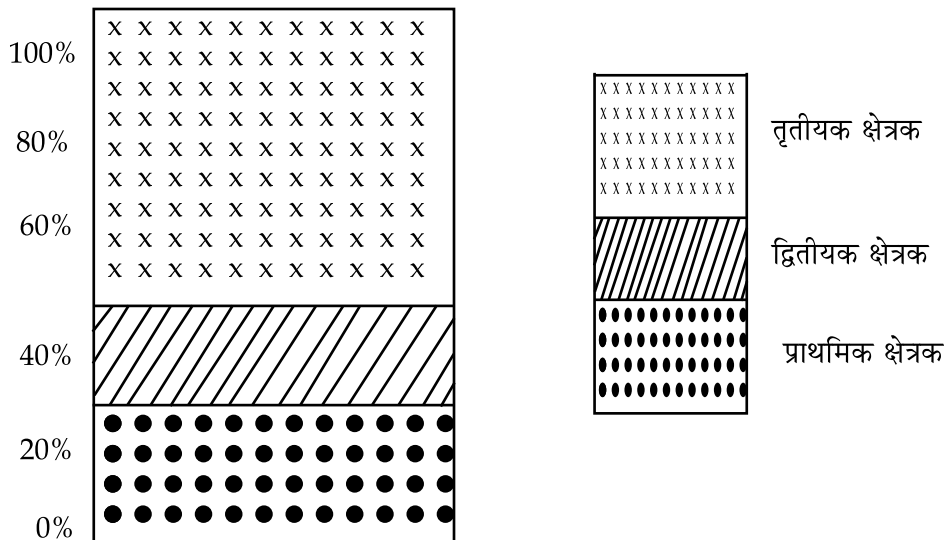
30. ग्रामीण क्षेत्रों में रोजगार सृजन के कोई तीन तरीके सुझाइए।

3x1=3

31. निम्नलिखित प्रश्नों के उत्तर दीजिए :

1+2=3

क्षेत्रों के सकल घरेलू उत्पाद में % भागीदारी :



निम्नलिखित प्रश्नों के उत्तर दीजिए।

- किस क्षेत्रक की भागीदारी सकल घरेलू उत्पाद में सर्वाधिक है?
- इसके कोई दो कारण बताइए।
- तृतीय क्षेत्रक के कोई तीन महत्व बताइए।

32. 1929 की महामंदी के भारत पर पड़ने वाले किन्हीं चार प्रभावों को उजागर कीजिए।

4

अथवा

पहले विश्व युद्ध के समय, भारत का औद्योगिक उत्पादन कैसे बढ़ा? स्पष्ट कीजिए।

4

अथवा

लन्दन के भूमिगत रेल परिवहन के गुण तथा कमियों की व्याख्या कीजिए।

2+2=4

33. चावल तथा कपास के उत्पादन के लिए आवश्यक भौगोलिक दशाओं को लिखिए।

2+2=4

34. भारत की भाषानीति के कोई चार विशेषताएँ लिखिए।

4x1=4

35. संगठित तथा असंगठित क्षेत्रों में अन्तर स्पष्ट कीजिए।

2+2=4

36. क्रम संख्या 1 से 3 तक विभिन्न लक्षणों को प्रदर्शित किया गया है। निम्नलिखित जानकारी के आधार पर इन लक्षणों की पहचान कीजिए तथा मानचित्र में निर्धारित स्थान पर उनके सही नाम लिखिए। 1x3=3

- (1) एक प्रकार की मिट्टी
- (2) एक वन का प्रकार
- (3) एक खाद्यान फसल

**अथवा**

उसी मानचित्र पर निम्न को चिन्हित कीजिए।

- (a) मानस बाघ रिजर्व राज्य
- (b) गन्ना उत्पादक
- (c) सरदार सरोवर बाँध

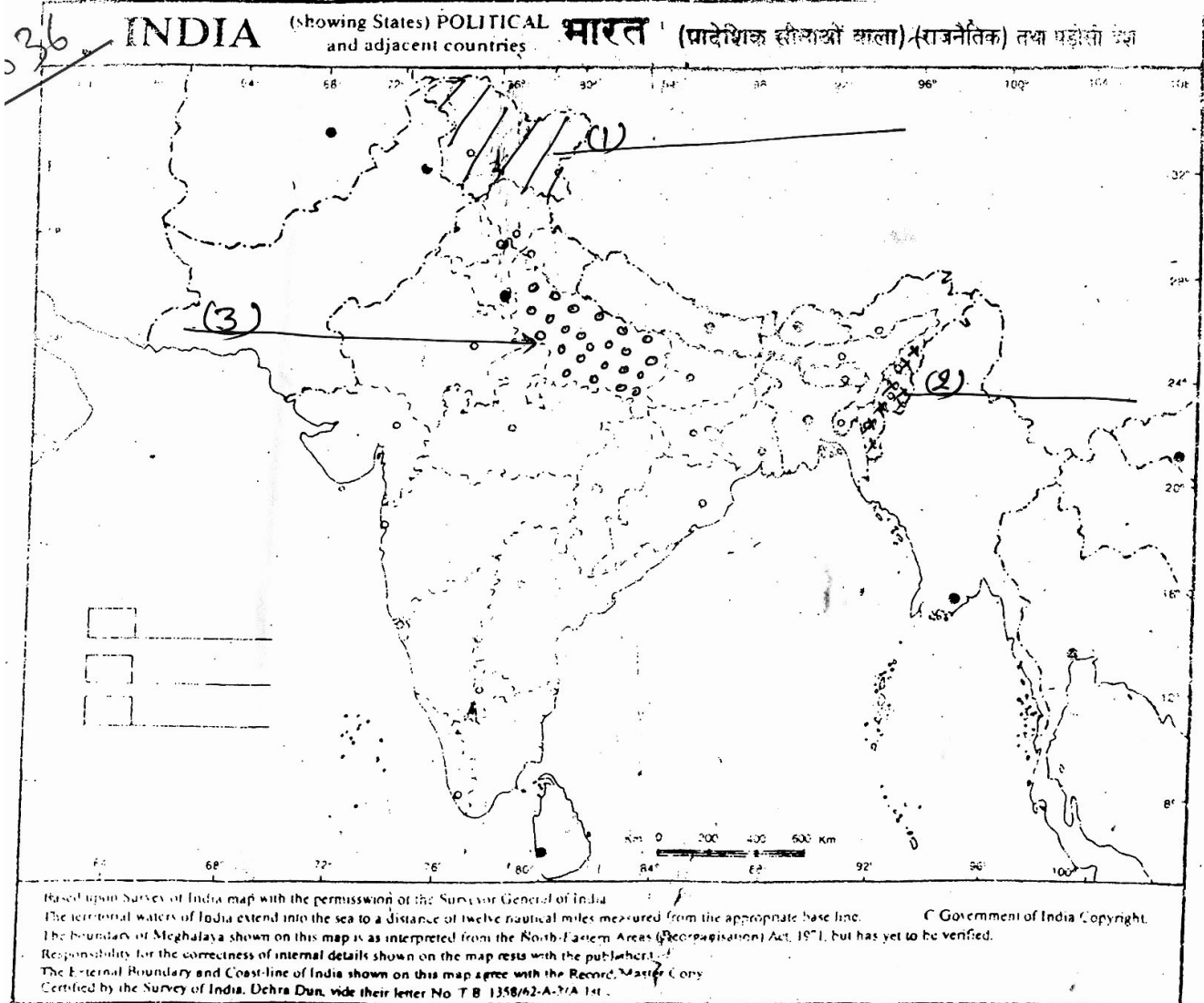
1x3=3

36. केवल दृष्टिहीन विद्यार्थियों के लिये प्रश्न संख्या 36 के स्थान पर :

1x3=3

निम्नलिखित प्रश्नों के उत्तर दीजिए।

- (a) सुन्दर बन राष्ट्रीय पार्क भारत के किस राज्य में स्थित है?
- (b) हीराकुंड बाँध किस नदी पर बना हुआ है?
- (c) भारत के किसी एक गन्ना उत्पादक राज्य का नाम लिखिए।



-oOo-