

1080715 - C2

Class - X

कक्षा - X

SOCIAL SCIENCE

सामाजिक विज्ञान

Time : 3 hours

समय : 3 घंटे

Maximum Marks : 80

अधिकतम अंक : 80

Total No. of Pages : 16

कुल पृष्ठों की संख्या : 16

**Instructions :**

1. The question paper has 36 questions in all. All questions are **compulsory**.
2. Marks are indicated against each question.
3. This question paper consists of **two** parts i.e. **Part-I** and **Part-II**. Part-I of this question paper contains Multiple Choice Questions (MCQs) from serial number 1 to 16 of 1 mark each. These sixteen questions of Part-I are to be answered on a separate sheet provided. This part has to be completed in first **30 minutes only** and the answer sheet must be handed over to the invigilator before starting Part-II.
4. In Part-II of the question paper, there are 20 questions from serial no. 17 to 36. These questions are to be attempted in **2 hours and 30 minutes**. This part should be attempted only after the stipulated time given for Part-I.
5. Questions from serial number 17 to 31 are 3 marks questions. Answer of these questions should not exceed **80 words** each.
6. Questions from serial number 32 to 35 are 4 marks questions. Answer of these questions should not exceed **100 words** each.
7. Question number 36 is a map question of 3 marks from Geography only. After completion, attach the map inside your answer book.
8. An additional 15 minutes time has been allotted to read this question paper only.

**निर्देश :**

1. इस प्रश्न-पत्र में कुल 36 प्रश्न हैं। सभी प्रश्न **अनिवार्य** हैं।
2. प्रत्येक प्रश्न के निर्धारित अंक प्रश्न के सामने दिये गये हैं।
3. यह प्रश्न-पत्र **दो** भागों में विभाजित है : **भाग-I** और **भाग-II**। भाग-I में प्रश्न संख्या 1 से 16 तक है। इन बहु-विकल्पीय प्रश्नों के उत्तर अलग से दी गई उत्तर पुस्तिका में लिखें। इसके लिये समय अवधि आधा घण्टा तय है। अपने उत्तर पूरा करने के बाद उत्तर पुस्तिका अपने निरीक्षक को सौंप दें। तब भाग दो आरंभ करें।
4. भाग-II प्रश्न-पत्र में 20 प्रश्न दिये गये हैं। प्रश्न 17 से 36 प्रश्नों को हल करने की अवधि **2 घंटे 30 मिनट** है।
5. प्रश्न संख्या 17 से 31 तक के प्रत्येक प्रश्न **तीन-तीन** अंकों के हैं। इन प्रश्नों के उत्तर **80 शब्दों** से अधिक न हो।
6. प्रश्न संख्या 32 से 35 तक के प्रत्येक प्रश्न **चार-चार** अंकों के हैं। इन प्रश्नों के उत्तर **100 शब्दों** से अधिक न हो।
7. प्रश्न संख्या 36 मानचित्र भूगोल विषय का 3 अंकों का है। प्रश्न पूरा होने पर मानचित्र को अपनी उत्तर-पुस्तिका के भीतर संलग्न करें।
8. इस प्रश्न-पत्र को पढ़ने के लिए 15 मिनट का समय दिया गया है। इस अवधि के दौरान छात्र केवल प्रश्न-पत्र को पढ़ेंगे और वे उत्तर-पुस्तिका पर कोई उत्तर नहीं लिखेंगे।

**PART - I**

1. The mountain share in the total land area is : 1  
(a) 30 %  
(b) 27 %  
(c) 43 %.  
(d) 40 %
2. How many species of flora are found in India ? 1  
(a) 81000  
(b) 47000  
(c) 15000  
(d) 41000.
3. In which of the following regions, people built 'Guls' and 'Kuls' for irrigation ? 1  
(a) Northern plains  
(b) Western Himalayas  
(c) Coastal areas  
(d) None of the above.
4. Arabica variety of coffee was initially brought to India from which of the following countries ? 1  
(a) Yemen  
(b) Vietnam  
(c) Japan  
(d) Korea.
5. Which one of the following was the world's first mass produced car ? 1  
(a) 'T' model car  
(b) Maruti car  
(c) B M W car  
(d) None of the above

**OR**

- Who established six Joint stock companies in India during 1830-40 ? 1  
(a) Jamsed Jee Nuserwan Jee Tata  
(b) Dinshaw petit  
(c) Seth Hukumchand  
(d) Dwarkanath Tagore

**OR**

- Who among the following produced the film Raja Harishchandra in 1913 ? 1  
(a) Dada Saheb Phalke  
(b) Harishchandra Sakharan Bhatwadekar  
(c) Ashok Kumar  
(d) None of the above

6. The United Nations Monetary and Financial Conference was held at Breten Woods in (USA) in the year : 1

- (a) 1942 (b) 1943  
(c) 1944 (d) 1945

**OR**

Which one of the following ports decayed by the end of the eighteenth century ? 1

- (a) Calcutta (b) Goa  
(c) Surat (d) None of the above

**OR**

Which one of the following was used in Tollygunge rice mills in place of coal ? 1

- (a) petrol (b) wood  
(c) rice husk (d) All of the above

7. When did the printing press first came to Goa with Portuguese missionaries ? 1

- (a) Mid eighteenth century  
(b) Mid seventeenth century  
(c) Mid sixteenth century  
(d) Mid fifteenth century

**OR**

Which one of the following is the first modern novel in Malayalam novels published in 1889. 1

- (a) Indulekha (b) Henrieta Temple  
(c) Yamuna Paryatan (d) None of the above

8. Who started to edit the Bengal Gazettes weekly in 1780. 1

- (a) James Augustus Hickey  
(b) Richard M Ho  
(c) Bal Gangadhar Tilak  
(d) None of the above

**OR**

Whose writings in Hindi created a novel reading public ? 1

- (a) Premchand (b) Shrinivas Das  
(c) Devki Nandan Khatri (d) Bhartendu Harish Chandra

9. The literacy rate among Indian women is approximately : 1

- (a) 54 % (b) 55 % (c) 56 % (d) 57 %

10. Which one of the following countries is an example of Holding together federation ? 1  
(a) India (b) U.S.A  
(c) Australia (d) Switzerland
11. Which ethnic group constituted a majority in Brussels ? 1  
(a) French speaking (b) Dutch speaking  
(c) German speaking (d) English speaking
12. In which year was 'Sinhla' was recognised as the only official language in Srilanka ? 1  
(a) 1954  
(b) 1955  
(c) 1956  
(d) 1957
13. When was NREGA enacted ? 1  
(a) 2004 (b) 2005 (c) 2006 (d) 2007
14. Underemployment occurs when people : 1  
(a) do not want to work  
(b) are working in a lazy manner  
(c) are working less than what they are capable of doing  
(d) are not paid for their work
15. What was the annual per capita income of India in 2004 ? 1  
(a) 37,000  
(b) 4,53,000  
(c) 28,000  
(d) 38,000
16. Which sector has the provision of paid leave ? 1  
(a) Unorganised sector  
(b) Organised sector  
(c) Rural sector  
(d) None of these

## PART - II

17. Explain the visual culture (picture, calendar & cartoon etc. ) in print which developed in the nineteenth century. 3

OR

Which type of problems were highlighted by the novelist, Charls Dickens through his novel ? Explain from any of his two novels.  $1\frac{1}{2}+1\frac{1}{2}=3$

18. What was 'corn law' ? Who forced the abolition of the corn law ?  $1\frac{1}{2}+1\frac{1}{2}=3$

OR

Explain any three problems faced by Indian weavers in 1850s  $3\times 1=3$

OR

Highlight any three problems faced by people who migrated to Bombay ?  $3\times 1=3$

19. Explain any three different roles of women regarding print ?  $3\times 1=3$

OR

What was the main theme of novel "Priksha Guru" written by Srinivas Das. Explain the expectation from society as described in this novel ?

20. Explain the regulations passed by the British Government to control press freedom. 3

OR

Characters of Prermchand's novel were drawn from various strata of society. Explain with suitable example. 3

21. Distinguish between stock and Reserves.  $1\frac{1}{2}+ 1\frac{1}{2}=3$

22. What is 'Project Tiger' ? Evaluate its success ?  $1+2=3$

23. Explain any three disadvantages of Multi purpose projects.  $3\times 1=3$

24. What is meant by majoritarianism ? How is it practised in Sri Lanka ?  $1+2=3$

25. How do social divisions affect politics ? Explain. 3

26. "Social divisions exist in the most countries of the world". Explain. 3

27. Mention any three provisions of the Indian constitution which make India a secular state.  $3\times 1=3$

28. Study the following table and answer the following questions :

2+1=3

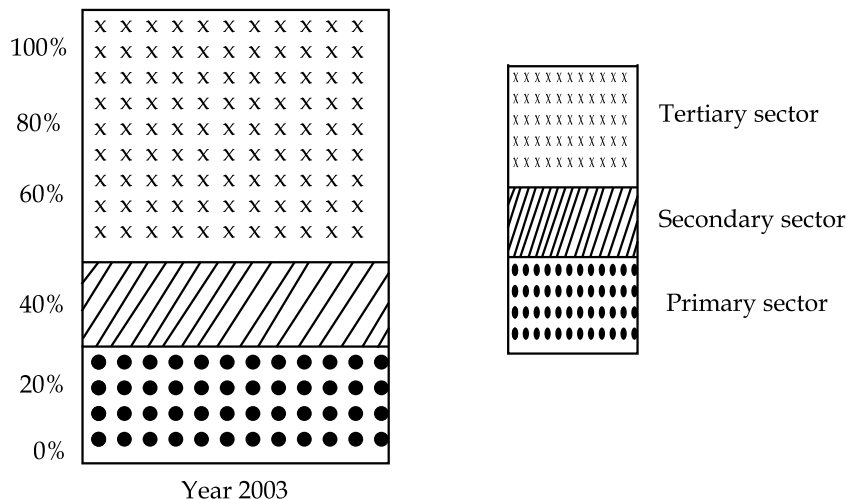
State	Per capita income ( in Rs.) 2002 - 2003
Punjab	26000
Keral	22800
Bihar	5700

- (a) Which state has the highest per capita income and why ?  
 (b) Calculate the difference of per capita income between Punjab and Bihar.

29. "The quality of our life depends on non material things", Justify the statement with example 3

30. Answer the following questions after carefully studying the graph given below : 1+2=3

Shares of sectors in GDP (%).



- (a) Which sector shares the largest % in GDP of India ?  
 (b) Give any two reasons of it.

31. Mention any three types of benefits which the workers of organised sector enjoy ? 3x1=3

32. "Agriculture had been the backbone of the Indian economy. But the declining share of agriculture in the GDP now is a matter of serious concern." Explain the meaning of this statement. 2+2=4

33. Answer the following questions :

Mention any three importance of tertiary sector. Highlight any four consequences of the great depression of 1929 on India.

4

OR

How did industrial production in India increase during the First World War ? Explain.

4

OR

Explain the merits and draw backs of underground rail of London.

4

34. Explain the three fold division of legislative powers between the Union government and the state governments. What do we call the subjects which are not mentioned in these three lists ?

3+1=4

35. Write any four features of the National Rural Employment Guarantee Act, 2005 (NREGA).

2+2=4

36. Three features with serial No 1 to 3 are marked in the given political map of India. Identify these features with the help of the following information and write their correct names on the line marked in the map

3x1=3

- (1) A type of soil
- (2) A type of forest
- (3) A commercial crop.

OR

Locate and label the following on the given outline map of India with appropriate symbols.

3x1=3

- (a) Bandhavgarh
- (b) Tungbhandra dam.
- (c) one cotton producing state of India

OR

Only for visually challenged candidates in lieu of

3x1=3

- (36.1) State where red soil is formed.
- (36.2) Name a national park situated
- (36.3) In which state is Salal dam situated.

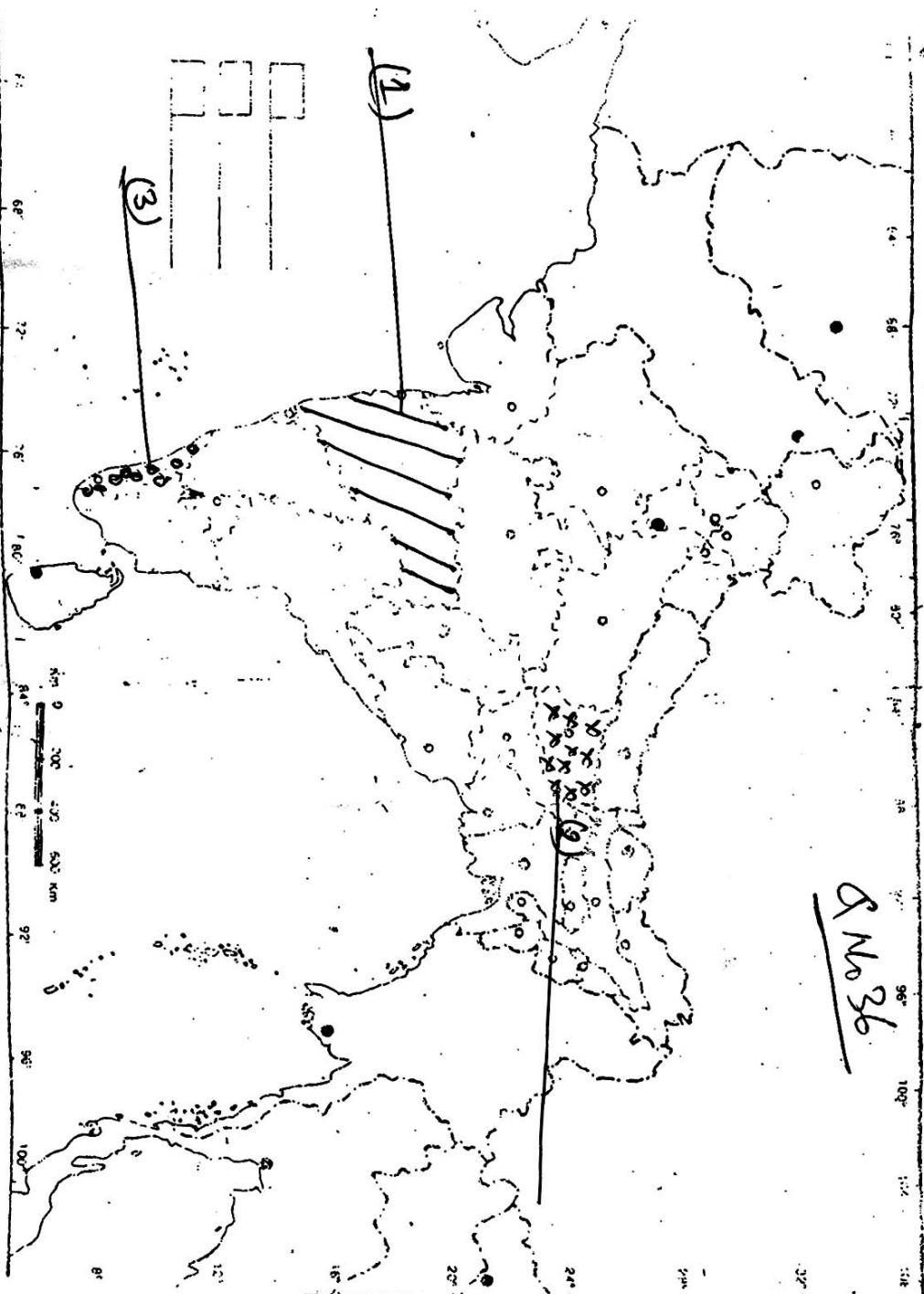
# INDIA

(showing States) POLITICAL  
and adjacent countries

भारत

(प्रदेशिक सीमाओं वाला) (राजनीतिक) तथा पड़ोसी देश

8 No 36



Based upon Survey of India map with the permission of the Survey General of India.  
The territorial waters of India extend into the sea to a distance of twelve nautical miles measured from the appropriate base line.  
The boundaries of Meghalaya shown on this map as interpreted from the North Eastern Areas (Specified) Act, 1971, but has yet to be verified.  
Responsibility for the correctness of internal details shown on the map rests with the publisher.  
The External Boundary and Coastline of India shown on this map agree with the Revised Map No. T. B. 1356/62, A-7/A 1st.  
Certified by the Survey of India, Dehra Dun, under their letter No. T. B. 1356/62, A-7/A 1st.

© Government of India Copyright

- o o o -



## भाग - I

1. कुल भूमि में पर्वतीय भूमि कितने प्रतिशत है? 1  
(a) 30 %  
(b) 27 %  
(c) 43 %  
(d) 40 %
  2. भारत में कितनी वनस्पति उपजातियाँ पाई जाती हैं? 1  
(a) 81000  
(b) 47000  
(c) 15000  
(d) 41000.
  3. निम्न में से किस क्षेत्र में सिंचाई के लिए 'गुल एवम् कुल' बनाया जाता है? 1  
(a) उत्तर के मैदानी भाग  
(b) पश्चिमी हिमालय क्षेत्र  
(c) तटीय क्षेत्र  
(d) उपरोक्त में से कोई नहीं
  4. अरेबिका काफी सर्व प्रथम भारत में निम्नलिखित में से किस देश से लाई गई? 1  
(a) यमन  
(b) वियतनाम  
(c) जापान  
(d) कोरिया
  5. निम्नलिखित में से कौन-सी बृहत उत्पादन से बनी पहली कार थी? 1  
(a) 'टी' मॉडल कार  
(b) मारुती कार  
(c) बी.एम.डब्ल्यू. कार  
(d) उपरोक्त में से कोई नहीं
- अथवा**
- 1830 - 40 के दशक में किसने भारत में 6 संयुक्त उद्यम कंपनियाँ लगाई थी? 1
- (a) जमशेद जी नुसरवान जी टाटा  
(b) दिनशॉ पेटिट  
(c) सेठ हुकुम चन्द  
(d) द्वारकानाथ टैगोर
- अथवा**
- 1913 में राजा हरिश्चन्द्र फिल्म किसने बनाई? 1
- (a) दादा साहेब फाल्के  
(b) हरिश्चन्द्र शंखाराम भाटवाडेकर  
(c) अशोक कुमार  
(d) उपरोक्त में से कोई नहीं।

6. यू.एस.ए. में ब्रेटेन वुड्स नामक स्थान पर संयुक्त राष्ट्र मौद्रिक एवं वित्तीय सम्मेलन का आयोजन किस वर्ष में हुआ ? 1

(a) 1942 (b) 1943 (c) 1944 (d) 1945

**अथवा**

निम्नलिखित में से कौन-सी बन्दरगाह अठारहवीं सदी के अन्त तक कमजोर पड़ गई ? 1

(a) कलकत्ता (b) गोवा  
(c) सूरत (d) उपरोक्त में से कोई नहीं।

**अथवा**

निम्नलिखित में से कौन-सा पदार्थ कोयले के स्थान पर टालीगंज चावल मिल में प्रयोग किया जाता था ? 1

(a) पेट्रोल (b) लकड़ी (c) चावल का भूसा (d) उपरोक्त सभी

7. पूर्तगालियों के साथ प्रिंटिंग प्रेस गोआ में कब आई ? 1

(a) अठारहवीं सदी के मध्य में (b) सत्रहवीं सदी के मध्य में  
(c) सोलहवीं सदी के मध्य में (d) पंद्रहवीं सदी के मध्य में

**अथवा**

निम्नलिखित में से कौन सा उपन्यास 1889 में प्रकाशित मलयालम का पहला आधुनिक उपन्यास है ? 1

(a) इन्दुलेखा (b) हेनरीएटा टेम्पल  
(c) यमुना पर्यटन (d) उपरोक्त में से कोई नहीं।

8. 1780 में 'बंगाल गजट' नामक साप्ताहिक पत्रिका का संपादन किसने शुरू किया ? 1

(a) जेम्स आगस्टस हिक्की (b) रिचर्ड एम.हो.  
(c) बाल गंगाधर तिलक (d) उपरोक्त में से कोई नहीं।

**अथवा**

हिन्दी उपन्यास का पाठक वर्ग किसके लेखन से पैदा हुआ ? 1

(a) प्रेमचन्द (b) श्रीनिवास दास  
(c) देवकी नन्दन खत्री (d) भारतेन्दु हरिश्चन्द्र

9. भारतीय महिलाओं में साक्षरता दर लगभग कितने प्रतिशत है ? 1

(a) 54% (b) 55% (c) 56% (d) 57%

10. निम्नलिखित में से कौन सा देश 'सबको साथ लेकर चलने वाला संघ' का उदाहरण है? 1  
(a) भारत (b) यू.एस.ए. (c) आस्ट्रेलिया (d) स्विट्जरलैण्ड
11. कौन सा जातीय समूह ब्रूसेल्स में बहुसंख्यक समूह है? 1  
(a) फ्रांसीसी भाषी (b) डच भाषी  
(c) जर्मन भाषी (d) इंग्लिश भाषी
12. किस वर्ष सिंहला को श्रीलंका की राज्यभाषा घोषित किया गया? 1  
(a) 1954  
(b) 1955  
(c) 1956  
(d) 1957
13. एन.आर.इ.जी.ए. (राष्ट्रीय ग्रामीण रोजगार गारंटी अधिनियम) कब लागू किया गया? 1  
(a) 2004 (b) 2005 (c) 2006 (d) 2007
14. अल्प बेरोजगारी तब होती है जब लोग : 1  
(a) काम करना नहीं चाहते हैं। (b) सुस्त ढंग से काम कर रहे हैं।  
(c) अपनी क्षमता से कम काम कर रहे हैं। (d) काम के लिए भुगतान से वंचित रह जाते हैं।
15. वर्ष 2004 में, भारत की वार्षिक प्रतिव्यक्ति आय कितनी थी? 1  
(a) 37,000  
(b) 4,53,000  
(c) 28,000  
(d) 38,000
16. किस क्षेत्र में सवेतन छुट्टी का प्रावधान है? 1  
(a) असंगठित क्षेत्र  
(b) संगठित क्षेत्र  
(c) ग्रामीण क्षेत्र  
(d) उपरोक्त में से कोई नहीं

## भाग - II

17. 19 वीं शताब्दी में विकसित प्रिन्ट में दृश्य संस्कृति (चित्र, कैलेन्डर, कार्टून) की व्याख्या कीजिए। 3

अथवा

चार्ल्स डिकेन्स ने अपने उपन्यासों के माध्यम से किस प्रकार के समस्याओं को उजागर किया है? उसके किन्हीं दो उपन्यासों से उदाहरण देकर व्याख्या कीजिए।  $1\frac{1}{2}+1\frac{1}{2}=3$

18. कार्न लॉ क्या था? किन लोगों ने 'कार्न लॉ' को समाप्त करने हेतु दबाव डाला?  $1\frac{1}{2}+1\frac{1}{2}=3$

अथवा

1850 के दशक में भारतीय बुनकरों की किन्हीं तीन प्रमुख समस्याओं की व्याख्या कीजिए।  $3\times 1=3$

अथवा

स्थानान्तरित होकर बंबई आने वाले लोगों की किन्हीं तीन समस्याओं को उजागर कीजिए।  $3\times 1=3$

19. मुद्रण में महिलाओं के किन्हीं तीन विभिन्न भूमिकाओं की व्याख्या कीजिए।  $3\times 1=3$

अथवा

श्रीनिवास दास द्वारा लिखित उपन्यास परीक्षागुरु का मुख्य सार क्या है? इस उपन्यास में समाज से की गई अपेक्षाओं की व्याख्या कीजिए।

20. ब्रिटिश सरकार द्वारा पास किन्हीं तीन अधिनियमों की व्याख्या कीजिए जो प्रेस की स्वतंत्रता की प्रतिबंधित करता हो। 3

अथवा

प्रेमचन्द्र के उपन्यासों के पात्र समाज के विभिन्न वर्गों से लिए गए हैं। उपयुक्त उदाहरण की सहायता से स्पष्ट कीजिए। 3

21. भंडार तथा संचित कोष में अन्तर स्पष्ट कीजिए।  $1\frac{1}{2}+ 1\frac{1}{2}=3$

22. बाघ परियोजना क्या है? इसकी सफलता का मूल्यांकन कीजिए। 1+2=3
23. बहुउद्देशीय परियोजनाओं की किन्हीं तीन कमियों की व्याख्या कीजिए। 3x1=3
24. बहु संख्यकवाद से क्या अभिप्राय: है। श्रीलंका में इस का प्रयोग किस प्रकार किया जाता है? 1+2=3
25. सामाजिक विभाजन किस तरह से राजनीति को प्रभावित करता है? व्याख्या कीजिए। 3
26. “सामाजिक विभाजन विश्व के अधिकांश देशों में है”। व्याख्या कीजिए। 3
27. भारतीय संविधान के ऐसे किन्हीं तीन प्रावधानों का उल्लेख कीजिए जो भारत को एक धर्मनिरपेक्ष राज्य का रूप प्रदान करते हैं। 3x1=3
28. नीचे दी गई तालिका का अध्ययन कीजिए तथा निम्नलिखित प्रश्नों के उत्तर दीजिए। 2+1=3

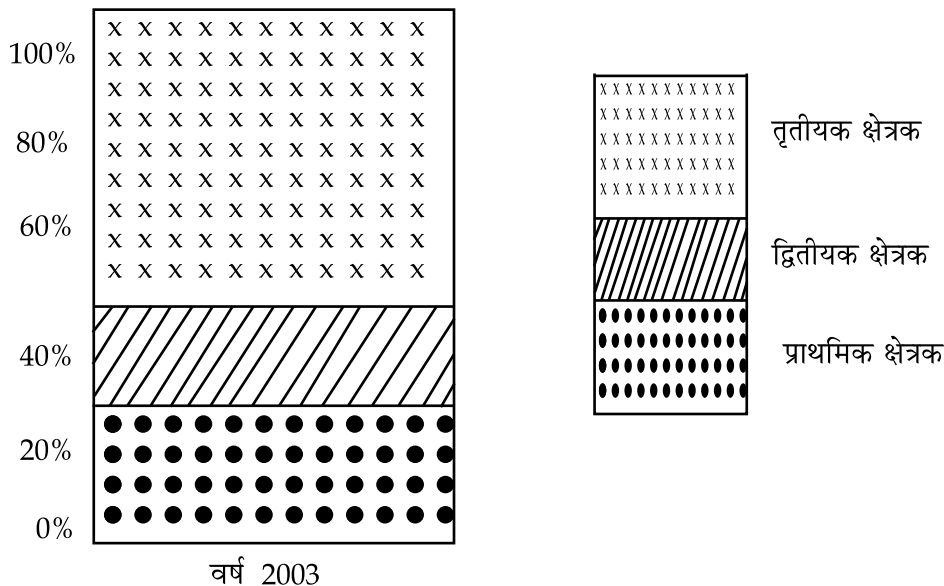
राज्य	प्रति व्यक्ति आय ( रुपये में )
पंजाब	26000
केरल	22800
बिहार	5700

- (a) किस राज्य की प्रति व्यक्ति आय सर्वाधिक है और क्यों?
- (b) पंजाब और बिहार की प्रति व्यक्ति आय में अन्तर निकालिए।
29. “हमारे जीवन की गुणवत्ता अभौतिक वस्तुओं पर भी निर्भर करती है”। उपरोक्त कथन की पुष्टि कीजिए। 3

30. निम्नलिखित प्रश्नों के उत्तर दीजिए :

1+2=3

क्षेत्रकों के सकल घरेलू उत्पाद में % भागीदारी :



निम्नलिखित प्रश्नों के उत्तर दीजिए।

- किस क्षेत्रक की भागीदारी सकल घरेलू उत्पाद में सर्वाधिक है?
- इसके कोई दो कारण बताइए।
- तृतीय क्षेत्रक के कोई तीन महत्व बताइए।

31. संगठित क्षेत्र के कर्मचारियों को प्राप्त होने वाले किन्हीं तीन लाभों का उल्लेख कीजिए।

3x1=3

32. “कृषि भारतीय अर्थव्यवस्था की रीढ़ की हड्डी रही है, परन्तु कृषि का सकल घरेलू उत्पाद में घटता अंश अब गंभीर चिंता का विषय बन गया है।” उस कथन का अर्थ स्पष्ट कीजिए।

2+2=4

33. 1929 की महामंदी के भारत पर पड़ने वाले किन्हीं चार प्रभावों को उजागर कीजिए।

4

अथवा

पहले विश्व युद्ध के समय, भारत का औद्योगिक उत्पादन कैसे बढ़ा? स्पष्ट कीजिए।

4

अथवा

लन्दन के भूमिगत रेल परिवहन के गुण तथा कमियों की व्याख्या कीजिए।

2+2=4

34. केन्द्र तथा राज्य सरकारों के बीच विधायी शक्तियों के तीन स्तरीय विभाजन की व्याख्या कीजिए। जिन विषयों की चर्चा इन तीनों सूचियों में नहीं है उन्हें हम किस नाम से पुकारते हैं? 3+1=4

35. राष्ट्रीय ग्रामीण रोजगार गारंटी अधिनियम 2005 की कोई चार मुख्य विशेषताएं लिखिए। 2+2=4

36. क्रम संख्या 1 से 3 तक विभिन्न लक्षणों को दर्शाया गया है। निम्नलिखित जानकारी के आधार पर इन लक्षणों की पहचान कीजिए तथा मानचित्र पर निर्धारित स्थान पर उनके सही नाम लिखिए। 3x1=3

- (1) एक प्रकार की मृदा
- (2) एक प्रकार का वन
- (3) एक व्यापारिक फसल

**अथवा**

भारत के राजनीतिक रेखा मानचित्र पर निम्न लक्षणों को अंकित कीजिए तथा उपयुक्त चिन्ह लगाकर उनके सही नाम लिखिए। 3x1=3

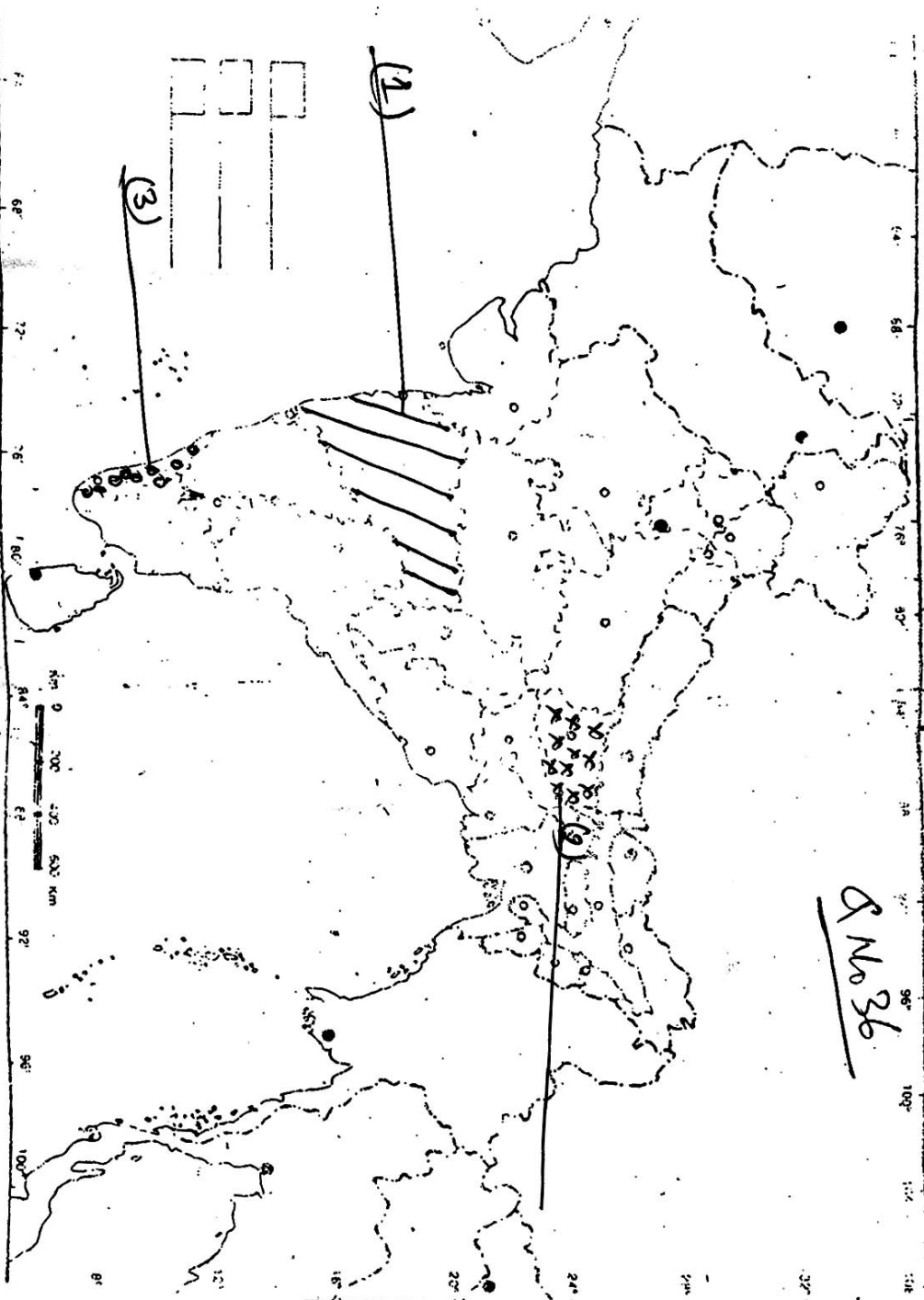
- (a) बाँधवगढ़
- (b) तुंगभद्रा बाँध
- (c) कपास उत्पादक एक राज्य

**अथवा**

केवल दृष्टिहीन छात्रों के लिए, प्रश्न संख्या 36 के स्थान पर : 3x1=3

- (36.1) लाल मृदा वाले एक राज्य का नाम लिखिए।
- (36.2) उत्तराखंड के एक राष्ट्रीय पार्क का नाम लिखिए।
- (36.3) सलाल बाँध किस राज्य में स्थित है?

8 No 36



Based upon sources of India map with the permission of the Survey General of India the territorial waters of India extend into the sea to a distance of twelve nautical miles measured from the appropriate base line. The boundary of Madagaskar shown on this map is as interpreted from the North Eastern Africa (Geographical) Act, 1971, but has yet to be verified. Responsibility for the correctness of internal details shown on the map rests with the publisher. The External Boundary and Configuration of India shown on this map agrees with the *Revised Map of India* (only). The External Boundary and Configuration of India shown on this map agrees with the *Revised Map of India* (only). Certified by the Survey of India, Dehra Dun, vide their letter No. T.B. 1356/62-A-7/A 1st.

Government of India Copyright

- o 0 o -