

1080716-A1

Class - X

कक्षा - X

SOCIAL SCIENCE

सामाजिक विज्ञान

Time : 3 hours

समय : 3 घंटे

Maximum Marks : 80

अधिकतम अंक : 80

Total No. of Pages : 13

कुल पृष्ठों की संख्या : 13

Instructions :

1. The question paper has 36 questions in all. All questions are **compulsory**.
2. Marks are indicated against each question.
3. This question paper consists of **two** parts i.e. **Part-I** and **Part-II**. Part-I of this question paper contains Multiple Choice Questions (MCQs) from serial number 1 to 16 of 1 mark each. These sixteen questions of Part-I are to be answered on a separate sheet provided. This part has to be completed in first **30 minutes only** and the answer sheet must be handed over to the invigilator before starting Part-II.
4. In Part-II of the question paper, there are 20 questions from serial no. 17 to 36. These questions are to be attempted in **2 hours and 30 minutes**. This part should be attempted only after the stipulated time given for Part-I.
5. Questions from serial number 17 to 31 are 3 marks questions. Answer of these questions should not exceed **80 words** each.
6. Questions from serial number 32 to 35 are 4 marks questions. Answer of these questions should not exceed **100 words** each.
7. Question number 36 is a map question of 3 marks from Geography only. After completion, attach the map inside your answer book.
8. An additional 15 minutes time has been allotted to read this question paper only.

निर्देश :

1. इस प्रश्न-पत्र में कुल 36 प्रश्न हैं। सभी प्रश्न **अनिवार्य** हैं।
2. प्रत्येक प्रश्न के निर्धारित अंक प्रश्न के सामने दिये गये हैं।
3. यह प्रश्न-पत्र **दो** भागों में विभाजित है : **भाग-I** और **भाग-II**। भाग-I में प्रश्न संख्या 1 से 16 तक है। इन बहु-विकल्पीय प्रश्नों के उत्तर अलग से दी गई उत्तर पुस्तिका में लिखें। इसके लिये समय अवधि आधा घण्टा तय है। अपने उत्तर पूरा करने के बाद उत्तर पुस्तिका अपने निरीक्षक को सौंप दें। तब भाग दो आरंभ करें।
4. भाग-II प्रश्न-पत्र में 20 प्रश्न दिये गये हैं। प्रश्न 17 से 36 प्रश्नों को हल करने की अवधि **2 घंटे 30 मिनट** है।
5. प्रश्न संख्या 17 से 31 तक के प्रत्येक प्रश्न **तीन-तीन** अंकों के हैं। इन प्रश्नों के उत्तर **80 शब्दों** से अधिक न हो।
6. प्रश्न संख्या 32 से 35 तक के प्रत्येक प्रश्न **चार-चार** अंकों के हैं। इन प्रश्नों के उत्तर **100 शब्दों** से अधिक न हो।
7. प्रश्न संख्या 36 मानचित्र भूगोल विषय का 3 अंकों का है। प्रश्न पूरा होने पर मानचित्र को अपनी उत्तर-पुस्तिका के भीतर संलग्न करें।
8. इस प्रश्न-पत्र को पढ़ने के लिए 15 मिनट का समय दिया गया है। इस अवधि के दौरान छात्र केवल प्रश्न-पत्र को पढ़ेंगे और वे उत्तर-पुस्तिका पर कोई उत्तर नहीं लिखेंगे।

PART - I

1. Who among the following was a well known pioneer of mass production ? 1
(a) Jamshedji Tata (b) G. D. Birla
(c) Henry Ford (d) None of the above

OR

- In which one of the following years did the first cotton mill on Bombay (Mumbai) come up? 1
(a) 1854 (b) 1855 (c) 1862 (d) 1874

OR

- Who among the following developed the principle of the garden city? 1
(a) Charles Booth (b) Andrew Mearns
(c) Henry Mayhew (d) Ebenezer Howard

2. Which one of the following groups of countries was known as the 'Allies' in Europe? 1
(a) Britain, France and Russia (b) Britain, Germany and Russia
(c) Britain, Germany and France (d) None of the above

OR

- Who among the following was usually employed by the industrialists to get new recruits? 1
(a) Gomastha (b) Policeman
(c) Sepoy (d) Jobber

OR

- Which one of the following cities had a long history of air pollution? 1
(a) Mumbai (b) Calcutta (Kolkata)
(c) Chennai (d) Delhi

3. From amongst the following name of the oldest Japanese book printed in AD 868 ? 1
(a) Bible (b) Manuscripts
(c) Diamond Sutra (d) Sambad Kaumudi

OR

- Who among the following is the author of the 'Jungle Book'? 1
(a) R. L. Stevenson (b) Rudyard Kipling
(c) Thomas Hardy (d) Leo Tolstoy

4. Who among the following was not a women novelist? 1
(a) Jane Austen (b) Brontë Sisters
(c) George Eliot (d) None of the above

OR

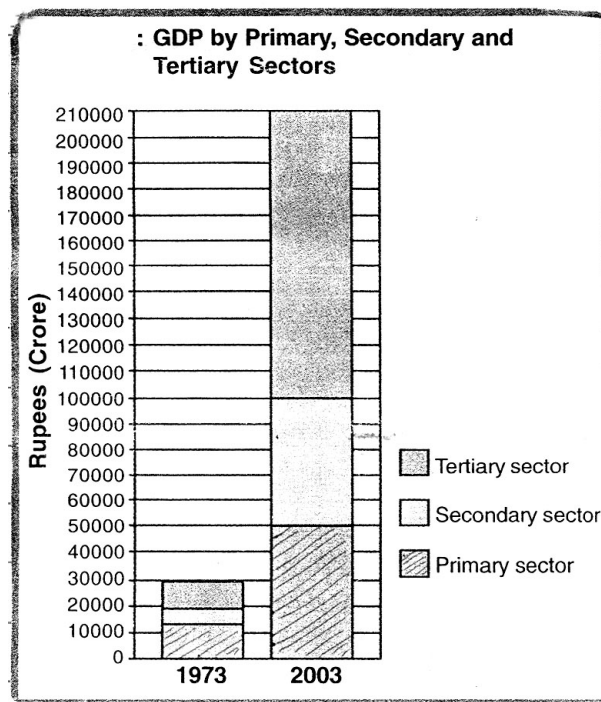
- Which novel among the following was not written by Premchand? 1
(a) Godan (b) Rangbhoomi
(c) Sewasadan (d) Pariksha Guru

5. Which one of the following is not a 'Biotic Resource'? 1
 (a) Flora and Fauna (b) Rocks
 (c) Fisheries (d) Livestock
6. Sariska wild life sanctuary is located in which state? 1
 (a) Rajasthan (b) Uttar Pradesh
 (c) Gujarat (d) West Bengal
7. Hirakund dam is built on which river? 1
 (a) Chenab (b) Mahanadi (c) Krishna (d) Satluj
8. Which one of the following is not a fibre crop? 1
 (a) Cotton (b) Rubber (c) Jute (d) Hemp
9. How many times was the Belgium constitution amended between 1970 and 1993? 1
 (a) One (b) Two (c) Three (d) Four
10. What is the percentage of Dutch speaking people in Belgium? 1
 (a) 59 (b) 40 (c) 60 (d) 41
11. Which one of the following subjects is included in the Union list? 1
 (a) Police (b) Trade (c) Foreign Affairs (d) Commerce
12. In which of the following countries? the participation of women in public life is very high? 1
 (a) Scandinavian Countries (b) African Countries
 (c) Asian Countries (d) All the above
13. Which one of the following criteria is the basis to measure the development of a country according to UNDP? 1
 (a) Per Capita Income (b) Educational levels of the people
 (c) Health status of the people (d) All the above
14. Which one of the following is a developmental goal for industrialists? 1
 (a) To get more days of work (b) To get better wages
 (c) To get more electricity (d) All the above
15. Which one of the following occupations is associated with primary sector? 1
 (a) Fishing (b) Transport
 (c) Communication (d) Storage
16. Which one of the following is not a feature of the unorganised sector? 1
 (a) Workers are exploited
 (b) Rules and regulations are not followed
 (c) Jobs are low paid
 (d) Some formal processes and procedures are adhered to

PART - II

17. Why were Europeans attracted to Africa in the late nineteenth century? Mention any three reasons ? 3x1=3
- OR**
- After industrial development in England, what steps did the British government take to prevent competition with the Indian textiles ? 3
- OR**
- According to Durgacharan Ray in what three ways did the city life of Calcutta present contrasting images of opportunities? 3x1=3
18. Describe any three main features of the first printed Bible? 3x1=3
- OR**
- Mention any two main features of Jane Austen's novels? Name any one of her novels which depicts these features. 2+1=3
19. In what three ways did the printing press bring change in reading culture? 3x1=3
- OR**
- How did the novels in India encourage nationalism, Explain any three points. 3x1=3
20. How did the publishers persuade the common people to welcome the printed books in Europe? 3
- OR**
- Name the first modern novel of Hindi, who wrote this novel? Explain any two characteristics of this novel. $\frac{1}{2}+\frac{1}{2}+2=3$
21. Highlight any three problems associated with the indiscriminate use of resources by the human beings? 3x1=3
22. Explain any three factors which have led to the decline in India's biodiversity? 3x1=3
23. Why have multipurpose projects and dams come under great scrutiny and opposition in recent years? Mention any two social movements associated with these dams. 2+1=3
24. What were the two main causes of resentment in Belgium in 1960? How was the conflict solved? 3x1=3
25. "Politics and social divisions should not be allowed to mix". Justify the statement by giving any three suitable arguments 3x1=3
26. 'Democracy is the best way to fight for recognition and also to accommodate diversity' support the above statement with any three arguments. 3x1=3
27. Explain how caste inequalities are still continuing in India? 3

28. In what respect is the criterion for measuring development used by the UNDP different from the one used by the world bank? 3
29. A girl from a rich urban family has some developmental goals for her. State any three of such goals. 3x1=3
30. What is Gross Domestic Product' (GDP)? Which organisation in India undertakes the task of measuring GDP? 2+1=3
31. Differentiate between the public and private sectors on the basis of assets and sowices. Give at least one example for each sector. 2+1=3
32. "The indentured labour gave rise to a new culture in the carribean islands" Justify this statement with any four suitable examples. 4x1=4
- OR**
- What measures were adopted by the producers in India to expand the market for their goods in the nineteenth century? 4
- OR**
- Explain any four changes that took place in the family life in the 18th century which promoted individualism in the city life? 4x1=4
33. Why has Indian agriculture started a declining trend in food production? Explain any four reason. 4x1=4
34. 'Federal power sharing is more effective today than it was in the early years after the constitution come in to force? Justify the statement by analysing the situation before and now. 2+2=4
35. Study the graph given below and answer the following question: 1x4=4



- 35.1 Which was the largest producing sector in 1973?
35.2 Which was the largest producing sector in 2003?
35.3 Which sector has grown the most over thirty years?
35.4 What was the GDP of India in 2003?

For blind candidates only in lieu of Q.No.35?

Answer the following question

- (a) Which sector was grown between 1973 and 2003?
(b) Who takes up the responsibility of managing tertiary services in developing countries?
(c) How does the growth in the primary and secondary sector affect the growth of tertiary services?
(d) Which sector employs more than half of the workers in the country?

36. Three features with serial number 1 to 3 are marked on the given political outline map of India. Identify these features with the help of the following information and write their correct names on the lines marked in the map. 3x1=3
1. Soil type
 2. National Park
 3. The leading rubber producing state

OR

Locate and label the following items with appropriate symbols on the same map. 3x1=3

- (a) Tehri Dam
(b) Periyar Tiger Reseave
(c) The largest Jute producing state

Note : The following question is for the visual impaired candidates only. in lieu of Q. No. 36. 3x1=3

Answer the following questions.

- 36.1 What is the colour of the Regur Soil?
36.2 Name the state where Tehri Dam is built
36.3 Name the largest Jute producing state

- o o o -

भाग - I

1. निम्नलिखित में से कौन बृहत उत्पादन का विख्यात प्रणेता था? 1
(क) जमशेदजी टाटा (ख) जी. डी. बिरला
(ग) हैनरी फोर्ड (घ) उपरोक्त में से कोई नहीं
- अथवा**
- बम्बई (मुम्बई) में सूती वस्त्रों की पहली मिल की स्थापना किस वर्ष में हुई थी? 1
(क) 1854 (ख) 1855 (ग) 1862 (घ) 1874
- अथवा**
- निम्नलिखित में से किसने 'गार्डन सिटी' के सिद्धांत का विकास किया? 1
(क) चार्ल्स बुथ (ख) एन्ड्रू मीन्स
(ग) हेनरी मेह्यू (घ) इबेन्जर होवार्ड
2. निम्नलिखित में से देशों के किस समूह को युरोप में मित्र देशों के नाम से जाना जाता था? 1
(क) ब्रिटेन, फ्रांस और रूस (ख) ब्रिटेन, जर्मन और रूस
(ग) ब्रिटेन, जर्मनी और फ्रांस (घ) उपरोक्त में से कोई नहीं
- अथवा**
- नए लोगों को भर्ती करवाने के लिए उद्योगपति निम्नलिखित में से प्रायः किस को नियुक्त करते थे? 1
(क) गोमाश्ता (ख) पुलिस मैन
(ग) सिपाही (घ) जॉबर
- अथवा**
- निम्नलिखित में किस शहर का इतिहास प्रदूषण की दृष्टि से बहुत पुराना है? 1
(क) मुम्बई (ख) कलकत्ता
(ग) चैन्नई (घ) दिल्ली
3. निम्नलिखित में से, 868 इसवी में प्रकाशित जापान की प्राचीनतम पुस्तक का नाम बताइए। 1
(क) बाइबल (ख) हस्तलिपियां
(ग) डायमंड सूत्र (घ) संवाद कौमुदी
- अथवा**
- 'जंगल बुक' नामक पुस्तक के लेखक कौन हैं? 1
(क) आर. एल. स्टीवेन्सन (ख) रडयार्ड किपलिंग
(ग) थामस हार्डी (घ) लियो टॉल्स्टाय

4. निम्नलिखित में से कौन महिला उपन्यासकार नहीं है? 1
- (क) जेन आस्टिन (ख) ब्राण्ट बहनें
(ग) जार्ज ईलियट (घ) उपरोक्त में से कोई नहीं

अथवा

निम्नलिखित में से कौन सा उपन्यास प्रेमचंद द्वारा नहीं लिखा गया? 1

- (क) गोदान (ख) रंगभूमि
(ग) सेवा सदन (घ) परीक्षा गुरु

5. निम्नलिखित में से कौन सा एक जैव संसाधन नहीं है? 1
- (क) वनस्पति तथा वन्य प्राणी (ख) चट्टानें
(ग) मछली पकड़ना (घ) पशु धन

6. “सरिस्का वन्य जीव पशुविहार” किस राज्य में स्थित है? 1
- (क) राजस्थान (ख) उत्तर प्रदेश
(ग) गुजरात (घ) पश्चिम बंगाल

7. हिराकुंड बांध किस नदी पर बना हुआ है? 1
- (क) चेनाब (ख) महानदी (ग) कृष्णा (घ) सतलुज

8. निम्नलिखित में से कौनसा फसल रेशेदार फसल नहीं है? 1
- (क) कपास (ख) रबर (ग) जूट (घ) सन

9. 1970 और 1993 के बीच बैल्जियम का संविधान कितनी बार संशोधित किया गया? 1
- (क) एक (ख) दो (ग) तीन (घ) चार

10. बैल्जियम में डच भाषा बोलने वालों की संख्या कितने प्रतिशत है? 1
- (क) 59 (ख) 40 (ग) 60 (घ) 41

11. निम्नलिखित में से कौन सा विषय संघ सूची में सम्मिलित है? 1
(क) पुलिस (ख) व्यापार (ग) विदेश सम्बन्धी मामले (घ) वाणिज्य
12. निम्नलिखित में से किस देश में महिलाओं की सार्वजनिक जीवन में सहभागिता सर्वाधिक है? 1
(क) स्केंडेनेवियन देश (ख) अफ्रीकी देश
(ग) एशिया के देश (घ) उपरोक्त सभी
13. यूएनडीपी के अनुसार, किसी देश के विकास को आंकने का आधार, निम्नलिखित में से कौन सा है? 1
(क) प्रतिव्यक्ति आय (ख) लोगों की शिक्षा का स्तर
(ग) लोगों का स्वास्थ्य स्तर (घ) उपरोक्त सभी
14. निम्नलिखित में से कौन सा लक्ष्य, उद्योगपतियों का विकासात्मक लक्ष्य है? 1
(क) काम के लिए अधिक दिन होना (ख) बेहतर पारिश्रमिक
(ग) अधिक विद्युत की प्राप्ति (घ) उपरोक्त सभी
15. निम्नलिखित में से कौनसा व्यवसाय, प्राथमिक क्षेत्र से सम्बन्धित है? 1
(क) मछली पकड़ना (ख) परिवहन
(ग) संचार (घ) भण्डारण
16. निम्नलिखित में कौन सी विशेषता, असंगठित क्षेत्र की विशेषता नहीं है? 1
(क) श्रमिकों का शोषण
(ख) नियमों तथा निर्देशों का उल्लंघन
(ग) काम के लिए निम्न वेतन
(घ) कुछ औपचारिक प्रक्रियाओं तथा व्यवस्थाओं का अपनाया जाना।

भाग - II

17. उन्नीसवीं शताब्दी के अंतिम वर्षों में यूरोप के लोग अफ्रीका की ओर क्यों आकर्षित हुए? किन्हीं तीन कारणों का उल्लेख कीजिए। 3x1=3

अथवा

- इंग्लैंड में औद्योगिक विकास होने के पश्चात, भारतीय वस्त्र उद्योग की प्रतिस्पर्धा से बचने के लिए ब्रिटिश सरकार ने क्या कदम उठाए? 3

अथवा

- दुर्गाचरण राय के अनुसार, कलकत्ता का शहरी जीवन किन तीन तरीकों से विरोधी छवियों को प्रस्तुत करता था? 3x1=3

18. प्रथम मुद्रित बाइबल की किन्हीं तीन मुख्य विशेषताओं का वर्णन कीजिए। 3x1=3

अथवा

- जेन आस्टिन के उपन्यासों की किन्हीं दो विशेषताओं का उल्लेख कीजिए। इन विशेषताओं को दर्शाने वाले उस के किसी एक उपन्यास का नाम लिखिए। 2+1=3

19. छापेखाने के कारण, पढ़ने की संस्कृति में कौन से तीन परिवर्तन आए? 3x1=3

अथवा

- उपन्यासों ने किस प्रकार भारत में राष्ट्रीयता को प्रोत्साहन दिया? किन्हीं तीन बिंदुओं की व्याख्या कीजिए। 3x1=3

20. यूरोप के प्रकाशकों ने आम लोगों में मुद्रित पुस्तकों के प्रति रुचि पैदा करने के लिए क्या प्रयास किए? 3

अथवा

- हिंदी के प्रथम उपन्यास का नाम लिखिए। इस का लेखक कौन है? इस उपन्यास की किन्हीं दो विशेषताओं का उल्लेख कीजिए। $\frac{1}{2}+\frac{1}{2}+2=3$

21. मानव द्वारा संसाधनों के अंधाधुंध प्रयोग से सम्बन्धित किन्हीं तीन समस्याओं को उजागर कीजिए। 3x1=3

22. भारत की जैव विविधता के ह्रास के लिए उत्तरदायी किन्हीं तीन कारकों की व्याख्या कीजिए। 3x1=3

23. पिछले कुछ वर्षों में बहुउद्देशीय परियोजनाएं तथा बांध परिनरीक्षण और विरोध का विषय क्यों बन गई है? ऐसे बांधों से सम्बन्धित किन्हीं दो सामाजिक आंदोलनों का उल्लेख कीजिए। 2+1=3

24. 1960 में बैल्जियम में असंतोष के दो मुख्य कारण कौन से थे? यह टकराव किस प्रकार सुलझाया गया? 3x1=3

25. “राजनीति और सामाजिक विभाजनों का मेल नहीं होने देना चाहिए।” तीन उपर्युक्त तर्कों द्वारा इस कथन की पुष्टि कीजिए। 3x1=3

26. “पहचान बनाने और विविधता को समाहित करने के सब से अच्छा तरीका लोकतंत्र है।” तीन तर्क देकर इस कथन का समर्थन कीजिए। 3x1=3
27. भारत में जातिगत असमानताएं आज भी किस प्रकार प्रचलित हैं? व्याख्या कीजिए। 3
28. विकास मापने का यू.एन.डी.पी. मापदण्ड किन पहलुओं में विश्व बैंक के मापदण्ड से अलग है? 3
29. एक सम्पन्न नगरीय परिवार की एक कन्या के कुछ विकासात्मक का लक्ष्य है। ऐसे किन्हीं तीन लक्ष्यों का उल्लेख कीजिए। 3x1=3
30. सकल घरेलु उत्पाद (जी. डी. पी.) किसे कहते हैं? भारत में जी.डी.पी. के मापने का कार्य किस संगठन द्वारा किया जाता है? 2+1=3
31. परिसम्पत्तियों और सेवाओं के आधार सार्वजनिक क्षेत्रक और निजी क्षेत्रक में अन्तर स्पष्ट कीजिए। प्रत्येक क्षेत्रक का कम से कम एक उदाहरण दीजिए। 2+1=3
32. “अनुबंध श्रमिक व्यवस्था ने कैरीबियाई द्वीप समूह में एक नई संस्कृति को जन्म दिया।” किन्हीं चार उपयुक्त उदाहरणों की सहायता से इस कथन का औचित्य स्थापित कीजिए। 4x1=4

अथवा

उन्नीसवीं शताब्दी में भारतीय उत्पादकों ने अपने उत्पादों के लिए बाजार का विस्तार करने के लिए क्या क्या उपाय किए? 4

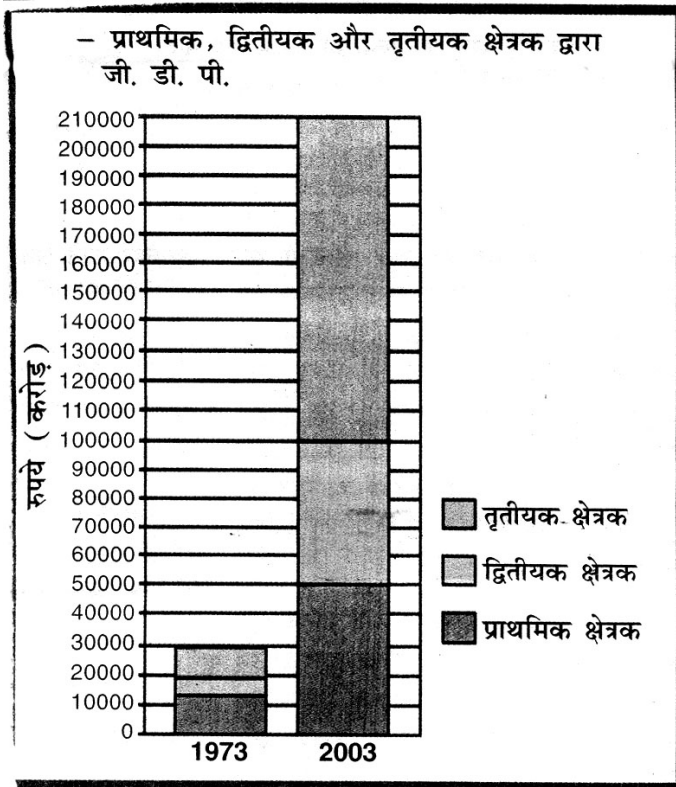
अथवा

अठारहवीं शताब्दी में शहरी जीवन में व्यक्तिवाद को बढ़ावा देनेवाले पारिवारिक जीवन में आए किन्हीं चार परिवर्तनों को स्पष्ट कीजिए। 4x1=4

33. भारतीय कृषि में खाद्य उत्पादन में गिरावट का समय क्यों प्रारम्भ हुआ? किन्हीं चार कारणों की व्याख्या कीजिए। 4x1=4
34. “संघीय व्यवस्था के तहत सत्ता की साझेदारी संविधान लागू होने के तत्काल बाद वाले दौर की तुलना में आज ज्यादा प्रभावी है।” आज के और तत्काल बाद वाली परिस्थितियों का विश्लेषण करते हुए उपरोक्त कथन की पुष्टि कीजिए। 2+2=4

35. नीचे दिए गए आरेख का अध्ययन कीजिए तथा निम्नलिखित प्रश्नों के उत्तर दीजिए।

1x4=4



35.1 1973 में सबसे बड़ा उत्पादक क्षेत्रक कौन सा था ?

35.2 2003 में सब से बड़ा उत्पादक क्षेत्रक कौन सा था ?

35.3 तीस वर्षों के काल में किस क्षेत्रक ने सर्वाधिक वृद्धि की ?

35.4 2003 में भारत का सकल घरेलु उत्पाद (जी.डी.पी.) कितना था ?

दृष्टिहीन परीक्षार्थियों के लिए, प्रश्न संख्या 35 के स्थान पर निम्नलिखित प्रश्नों के उत्तर दीजिए।

(क) 1973 से 2003 के बीच किस क्षेत्रक में सर्वाधिक वृद्धि हुई ?

(ख) विकासशील देशों में तृतीयक क्षेत्रक की सेवाओं के प्रबंधन की जिम्मेदारी कौन उठाता है ?

(ग) प्राथमिक और द्वितीयक क्षेत्रक के विकास का तृतीयक क्षेत्रक के विकास पर क्या प्रभाव पड़ता है ?

(घ) किस क्षेत्रक में भारत के आधे से अधिक श्रमिक काम करते हैं ?

36. भारत के दिए गए राजनीतिक रेखा मानचित्र में क्रमांक 1-3 द्वारा तीन लक्षण दर्शाए गए हैं। नीचे दी गई जानकारी की सहायता से उन्हें पहचानिए तथा निर्धारित स्थान पर उन के सही नाम लिखिए।

3x1=3

1. मृदा प्रकार

2. राष्ट्रीय उद्यान

3. सर्वाधिक रबर उत्पादक राज्य

अथवा

पहचान के लिए दिए गए मानचित्र में ही निम्नलिखित को दर्शाइए तथा उन के नाम लिखिए।

3x1=3

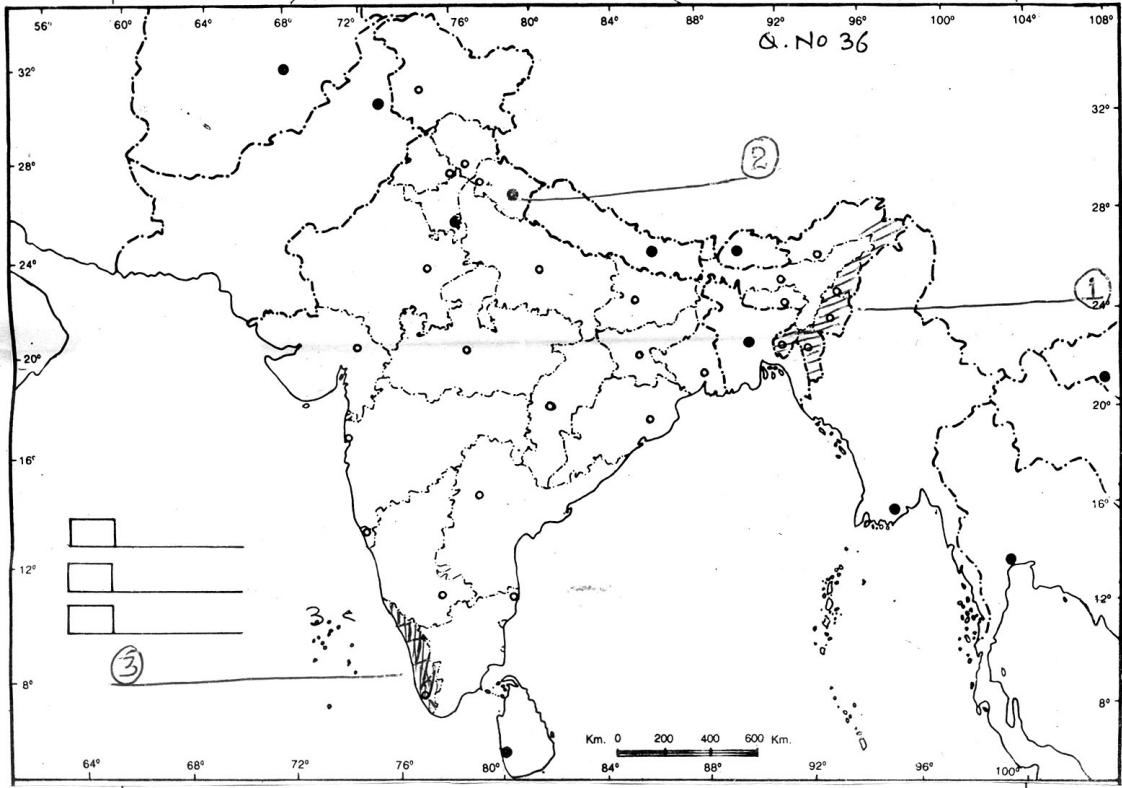
- (क) टिहरी डैम
- (ख) पेरियार बाघ रिजर्व
- (ग) सर्वाधिक जूट उत्पादक राज्य

नोट : केवल दृष्टिहीन परीक्षार्थियों के लिए प्रश्न संख्या 36 के स्थान पर निम्नलिखित प्रश्नों के उत्तर दीजिए। 3x1=3

36.1 रेगड़ मिट्टी का रंग क्या होता है?

36.2 उस राज्य का नाम लिखिए जहां टिहरी बांध स्थित है?

36.3 सर्वाधिक जूट उत्पादक राज्य का नाम लिखिए।



- o o o -