

1080716 - B1

Class - X

कक्षा - X

SOCIAL SCIENCE

सामाजिक विज्ञान

Time : 3 hours

समय : 3 घंटे

Maximum Marks : 80

अधिकतम अंक : 80

Total No. of Pages : 14

कुल पृष्ठों की संख्या : 14

**Instructions :**

1. The question paper has 36 questions in all. All questions are **compulsory**.
2. Marks are indicated against each question.
3. This question paper consists of **two** parts i.e. **Part-I** and **Part-II**. Part-I of this question paper contains Multiple Choice Questions (MCQs) from serial number 1 to 16 of 1 mark each. These sixteen questions of Part-I are to be answered on a separate sheet provided. This part has to be completed in first **30 minutes only** and the answer sheet must be handed over to the invigilator before starting Part-II.
4. In Part-II of the question paper, there are 20 questions from serial no. 17 to 36. These questions are to be attempted in **2 hours and 30 minutes**. This part should be attempted only after the stipulated time given for Part-I.
5. Questions from serial number 17 to 31 are 3 marks questions. Answer of these questions should not exceed **80 words** each.
6. Questions from serial number 32 to 35 are 4 marks questions. Answer of these questions should not exceed **100 words** each.
7. Question number 36 is a map question of 3 marks from Geography only. After completion, attach the map inside your answer book.
8. An additional 15 minutes time has been allotted to read this question paper only.

**निर्देश :**

1. इस प्रश्न-पत्र में कुल 36 प्रश्न हैं। सभी प्रश्न **अनिवार्य** हैं।
2. प्रत्येक प्रश्न के निर्धारित अंक प्रश्न के सामने दिये गये हैं।
3. यह प्रश्न-पत्र **दो** भागों में विभाजित है : **भाग-I** और **भाग-II**। भाग-I में प्रश्न संख्या 1 से 16 तक है। इन बहु-विकल्पीय प्रश्नों के उत्तर अलग से दी गई उत्तर पुस्तिका में लिखें। इसके लिये समय अवधि आधा घण्टा तय है। अपने उत्तर पूरा करने के बाद उत्तर पुस्तिका अपने निरीक्षक को सौंप दें। तब भाग दो आरंभ करें।
4. भाग-II प्रश्न-पत्र में 20 प्रश्न दिये गये हैं। प्रश्न 17 से 36 प्रश्नों को हल करने की अवधि **2 घंटे 30 मिनट** है।
5. प्रश्न संख्या 17 से 31 तक के प्रत्येक प्रश्न **तीन-तीन** अंकों के हैं। इन प्रश्नों के उत्तर **80 शब्दों** से अधिक न हो।
6. प्रश्न संख्या 32 से 35 तक के प्रत्येक प्रश्न **चार-चार** अंकों के हैं। इन प्रश्नों के उत्तर **100 शब्दों** से अधिक न हो।
7. प्रश्न संख्या 36 मानचित्र भूगोल विषय का 3 अंकों का है। प्रश्न पूरा होने पर मानचित्र को अपनी उत्तर-पुस्तिका के भीतर संलग्न करें।
8. इस प्रश्न-पत्र को पढ़ने के लिए 15 मिनट का समय दिया गया है। इस अवधि के दौरान छात्र केवल प्रश्न-पत्र को पढ़ेंगे और वे उत्तर-पुस्तिका पर कोई उत्तर नहीं लिखेंगे।

## PART - I

1. According to which famous economist, Indian gold exports promoted global economic recovery ? 1

(a) Paul Wood (b) John Maynard Keynes  
(c) Amartya Sen (d) David Jones

OR

In which one of the following years did the earliest factories in England come up? 1

(a) 1710 (b) 1720 (c) 1730 (d) 1740

OR

Which one of following cities is known as the city of dreams? 1

(a) Bombay (Mumbai) (b) Agra  
(c) Lucknow (d) Jaipur

2. Which group of countries was known as the 'Axis Powers'? 1

(a) Japan, Italy and China (b) Germany, Italy and Japan  
(c) Germany, Italy and France (d) None of the above

OR

Who among the following set up the first Indian Jute Mill in Calcutta (Kolkata) in 1917? 1

(a) G. D. Birla (b) Seth Hukum Chand  
(c) Dinshaw Petit (d) None of the above

OR

Which one of the following cities was designed as a garden city by Raymond Unwin and Barry Parker? 1

(a) London (b) Manchester  
(c) New Earswick (d) Lancashire

3. Who among the following brought the technology of wood block printing to Europe? 1

(a) Johann Gutenberg (b) Marco Polo  
(c) Richard M. Hoe (d) None of the above

OR

Who among the following is the author of the novel 'Oliver Twist'? 1

(a) R. L. Stevenson (b) Charles Dickens  
(c) Thomas Hardy (d) Leo Tolstoy

4. Who among the following did not write about the caste system? 1
- (a) E. V. Ramaswamy Naickes (b) Ram Chaddha  
(c) B. R. Ambedkar (d) Jyotiba Phule

**OR**

- Who among the following is referred to as the pioneer of modern Hindi Literature? 1
- (a) Srinivas Das (b) Devaki Nandan Khatri  
(c) Prem chand (d) Bharatendu Harish Chandra

5. Which one of the following is not an 'Abiotic Resource'? 1
- (a) Rocks (b) Metals (c) Fish (d) Minerals

6. Which one of the following movements is not associated with the protection of trees? 1
- (a) Chipko Movement (b) Navdanya Andolan  
(c) Project Tiger (d) Beej Bachao Andolan

7. Salal Dam is built on which river ? 1
- (a) Chenab (b) Mahanadi  
(c) Krishna (d) Satluj

8. Which one of the following is not a millet? 1
- (a) Jowar (b) Wheat (c) Ragi (d) Bajra

9. Which one of the following languages was recognised as the only official language of Srilanka in 1956? 1
- (a) Tamil (b) Urdu (c) Hindi (d) Sinhala

10. What is the percentage of the French speaking people in Belgium? 1
- (a) 59 (b) 40 (c) 60 (d) 41

11. Which one of the following subjects is included in the state list? 1
- (a) Agriculture (b) Foreign affairs  
(c) Banking (d) Currency

12. In which of the following countries the very participation of women in public life is very low ? 1
- (a) Sweden (b) Denmark (c) South Africa (d) Norway
13. Which one of the following is the most important attribute while comparing development of various countries? 1
- (a) Population
- (b) Social status of the people
- (c) Political status
- (d) Per capita income
14. Which one among the following is a developmental goal for the landless rural labourers? 1
- (a) To get electricity and water
- (b) To educate their children
- (c) More days of work and better wages
- (d) To shift to the cities
15. Which one of the following occupations is associated with secondary sector? 1
- (a) Agriculture (b) Forestry
- (c) Sugar Industry (d) Banking
16. Which one of the following is a feature of organised sector? 1
- (a) Workers are exploited.
- (b) Rules and regulations are violated.
- (c) Jobs are low paid.
- (d) Formal processes and procedures are followed.

**PART - II**

17. Explain three major features of global agricultural economy that had taken shape towards the close of nineteenth century. 3x1=3

**OR**

What role did the Indian merchants play in the growth of textiles industries before 1750? Explain any three points. 3x1=3

**OR**

Which cities were called 'Presidency Cities' in the 19th century India? Mention any two main features of these cities. 1+2=3

18. Explain any three factors responsible for the invention of 'New Printing Technology' 3x1=3

**OR**

Name any two great works of Charles Dickens, How did industrial age affect his writings ? 1+2=3

19. In what three ways was the print culture helpful for creating conditions for French Revolution? 3x1=3

**OR**

High light any three advantages of using vernacular in novels? 3x1=3

20. How did the Indians copy and preserve their manuscripts? 1+2=3

**OR**

Why is 'Titash Ekti Nadir Naam' considered a special novel? Write any two main features of this novel. 1+2=3

21. What are the main advantages of India's land under a variety of relief features? 3

22. Explain any three adverse effects of the destruction of forests and wild life ? 3x1=3

23. Do you agree that the need of the hour is to conserve and manage our water resources? Justify your answer with any three suitable arguments. 3x1=3

24. How many times was the Belgiun Constitution amended between 1970 and 1993? Mention any two positive effects of power sharing arrangements is Belgium ? 1+2=3

25. 'All social differences lead to social divisions'. Justify the statement. 3x1=3

26. "In a democracy, political expression of social divisions is very normal". Support this statement by giving three suitable arguments. **3x1=3**
27. Explain any three reasons for the decline of caste system in India. **3x1=3**
28. On what bases have the rich and low income countries been categorised in the World Development Report, 2006. India comes under which category and why? **2+1=3**
29. What is the meaning of Infant Mortality Rate' (IMR)? Give two main reasons for low IMR in Kerala. **1+2=3**
30. Compare the employment conditions prevailing in organised and unorganised sectors. **1½+1½=3**
31. Highlight any three factors responsible for making tertiary sector so important in India. **3x1=3**
32. Define the term 'Trade surplus'. How was the income received from trade surplus with India used by Britain? **1+3=4**

**OR**

Why did the technological changes occur slowly in the factories in 19th century? Explain any four reasons. **4x1=4**

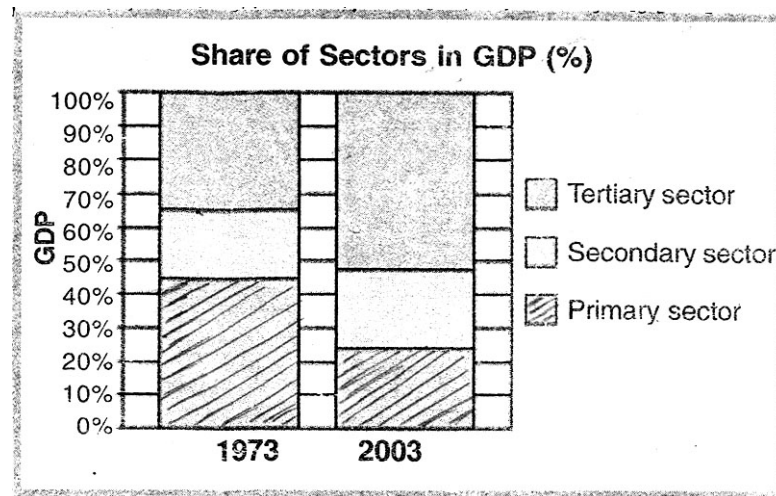
**OR**

How did the development of cities influence the ecology and environment in late 19th century? Explain your answer by giving the examples of Calcutta (Kolkata) **2+2=4**

33. Name the four fibre crops grown in India? Which one of them is not obtained directly from the crops? What is the name given to the process involved in its production? **2+1+1=4**
34. Describe in brief the language policy of India? **4**

35. Study the graph given below and answer the following questions :

1+2+1=4



- 35.1 Which was the largest producing sector in 1973?  
 35.2 Which was the largest producing sector in 2003?  
 35.3 How much percent is the contribution of secondary sector to total GDP in 2003.  
 35.4 What is the approximate share of tertiary sector in GDP (%) in 1973 ?

For blind students only in lieu of questions number 35.

Answer the following questions :

- (a) Which sector has shown the maximum production between 1973 - 2003  
 (b) Why is tertiary sector becoming so important in India ?  
 (c) Why could most of the people not shift out of primary sector ?

36. Three features with serial number 1 to 3 are marked on the given political outline map of India. Identify these features with the help of the following information and write their correct names on the lines marked in the Map.

3x1=3

1. Soil type
2. Tiger Reserve
3. The leading tea producing state.

OR

Locate and label the following items with appropriate symbols on the same map given for identification

- (a) Salal Dam
- (b) Sariska Wildlife Sanctuary
- (c) The largest producing state of Maize

**Note :** The following question is for the Visually impaired candidates only in lieu of Q. No.36

Answer the following question :

- 36.1 Name the Tiger Reserve of Assam  
 36.2 Name the state in which Salal Dam is built  
 36.3 Name the leading maize producing state of India.

- o o o -

## भाग - I

1. किस प्रसिद्ध अर्थशास्त्री के अनुसार, भारतीय सोने कि निर्यात ने वैश्विक अर्थव्यवस्था को प्रोत्साहित किया ? 1
- (a) पाल वुड (b) किन्स  
(c) आमरत्य सैन (d) डेविड जोन्स
- अथवा
- इंग्लैंड में प्रारम्भिक कारखानों का उदय किस वर्ष में हुआ ? 1
- (a) 1710 (b) 1720 (c) 1730 (d) 1740
- अथवा
- निम्नलिखित में से किस नगर को 'स्वप्नों के नगर' के रूप में जाना जाता है ? 1
- (a) बम्बई (मुम्बई) (b) आगरा  
(c) लखनऊ (d) जयपुर
2. किस देश समूह को 'धुरी की शक्तियाँ' कहा जाता था ? 1
- (a) जापान, इटली तथा चीन (b) जर्मनी, इटली तथा जापान  
(c) जर्मनी, इटली तथा फ्रांस (d) उपरोक्त में से कोई नहीं
- अथवा
- निम्नलिखित में से किसने भारत की पहली जूट मिल कोलकाता में स्थापित की ? 1
- (a) जी. डी. बिरला (b) सेठ हुकुमचंद  
(c) डिनशाँ पेटिट (d) उपरोक्त में से कोई नहीं
- अथवा
- निम्नलिखित में से किस नगर का डिजाईन, रेमंड मनविन और बैरी पार्कर द्वारा, गार्डन सिटी के रूप में तैयार किया गया ? 1
- (a) लंदन (b) मानचेस्टर  
(c) न्यू अर्सविक (d) लंकाशायर
3. निम्नलिखित में से कौन वुड ब्लाक प्रिंटिंग (तख्ती की छपाई) की तकनीक को युरोप में लाया ? 1
- (a) जान गुटेन्बर्ग (b) मारको पोलो  
(c) रिचर्ड एम. हो (d) उपरोक्त में से कोई नहीं
- अथवा
- 'ऑलीवर ट्विस्ट' नामक उपन्यास, निम्नलिखित में से किसने लिखा ? 1
- (a) आर. एल. स्टीवेन्सन (b) चार्ल्स डिकन्स  
(c) थॉमस हार्डी (d) लियो टॉल्स्टाय



4. निम्नलिखित में से किसने जाति प्रथा के बारे में नहीं लिखा? 1
- (a) ई. बी. रामास्वामी नैकर (b) राम चड्ढा  
(c) बी. आर. आम्बेडकर (d) ज्योतिबा फुले
- अथवा**
- निम्नलिखित में से किसे आधुनिक हिन्दी साहित्य का प्रणेता कहा जाता है? 1
- (a) श्रीनिवास दास (b) देवकी नंदन खत्री  
(c) प्रेमचंद (d) भारतेन्दु हरीशचन्द्र
5. निम्नलिखित में से कौनसा संसाधान, अजैव संसाधन नहीं है। 1
- (a) चट्टानें (b) धातुएं (c) मछलियां (d) खनिज
6. निम्नलिखित में से कौन सा आंदोलन वृक्षों के संरक्षण से सम्बन्धित नहीं है? 1
- (a) चिपको आंदोलन (b) नवदान्या आंदोलन  
(c) बाघ परियोजना (d) बीज बचाओं आंदोलन
7. सलाल बाँध किस नदी पर बना हुआ है? 1
- (a) चेनाब (b) महानदी  
(c) कृष्णा (d) सतलुज
8. निम्नलिखित में से कौन सी अनाज मोटे अनाज की श्रेणी में नहीं आता? 1
- (a) ज्वार (b) गेहूँ (c) रागी (d) बाजरा
9. निम्नलिखित में से किस भाषा को, 1956 में श्रीलंका की राजभाषा के रूप में मान्यता प्राप्त हुई थी? 1
- (a) तमिल (b) ऊर्दू (c) हिन्दी (d) सिंहली
10. बैल्जियम में फ्रांसीसी भाषा बोलनेवाले लोगों का प्रतिशत क्या है? 1
- (a) 59 (b) 40 (c) 60 (d) 41

11. निम्नलिखित में से कौन सा विषय, राज्य सूचि में शामिल है? 1
- (a) कृषि (b) विदेशी मामले  
(c) बैंकिंग (d) मुद्रा
12. निम्नलिखित देशों में से किस देश में, महिलाओं की सार्वजनिक क्षेत्र में सहयोगिता बहुत कम है? 1
- (a) स्वीडन (b) डेनमार्क (c) दक्षिण अफ्रिका (d) नार्वे
13. विभिन्न देशों के विकास की तुलना करते समय सर्वाधिक महत्वपूर्ण गुण कौनसा है? 1
- (a) जनसंख्या (b) लोगों का सामाजिक स्तर  
(c) राजनीतिक स्तर (d) प्रतिव्यक्ति आय
14. निम्नलिखित में से कौन सा लक्ष्य, भूमीहीन ग्रामीण श्रमिकों का लक्ष्य है? 1
- (a) बिजली तथा जल प्राप्त करना  
(b) अपने बच्चों को शिक्षित करना  
(c) काम के दिन तथा मजदूरी दोनों अधिक हो  
(d) नगरों में जा कर बस जाना
15. निम्नलिखित में कौन-सा व्यवसाय द्वितीयक क्षेत्रक से सम्बन्धित है? 1
- (a) कृषि (b) वाणिकी (c) चीनी उत्पादन (d) बैंकिंग
16. निम्नलिखित में से कौन सी विशेषता, संगठित क्षेत्रक की विशेषता है? 1
- (a) श्रमिकों का शोषण किया जाता है।  
(b) नियम तथा कानूनों का उल्लंघन किया जाता है।  
(c) काम के लिए कम वेतन दिया जाता है।  
(d) औपचारिक प्रक्रियाएं तथा विधियाँ अपनाई जाती हैं।

## भाग - II

17. उन्नीसवीं शताब्दी के अंतिम वर्षों में सामने आने वाली वैश्विक कृषि अर्थव्यवस्था की किन्हीं तीन विशेषताओं की व्याख्या किजिए। 3x1=3

**अथवा**

1750 से पूर्व, भारतीय व्यापारियों ने वस्त्र उद्योग के विकास के लिए क्या भूमिका अदा की। किन्हीं तीन बिन्दुओं को स्पष्ट कीजिए। 3x1=3

**अथवा**

उन्नीसवीं शताब्दी में भारत के किन शहरों को प्रेसीडेन्सी शहर कहा जाता था? इन नगरों की किन्हीं दो मुख्य विशेषताओं का उल्लेख किजिए। 1+2=3

18. नई मुद्रण तकनीक के आविष्कार के लिए उत्तरदायी किन्हीं तीन कारकों की व्याख्या किजिए। 3x1=3

**अथवा**

चार्ल्स डिकेंस की किन्हीं दो महान, कृतियों के नाम लिखिए। औद्योगिक काल ने उस के लेखों को किस प्रकार प्रभावित किया? 1+2=3

19. मुद्रण संस्कृति ने किन तीन तरीकों से फ्रांसीसी क्रांती के लिए सहायक परिस्थितियाँ रची? 3x1=3

**अथवा**

उपन्यासों में वर्नाकुलर भाषा का प्रयोग किए जाने के कोई तीन उपयोग बताइए। 3x1=3

20. भारतीय लोग किस प्रकार अपनी पांडूलिपियों की नकल करते थे तथा उन्हें सुरक्षित रखते थे? 1+2=3

**अथवा**

‘तीताश एकटी नदीर नाम’ नाम के पुस्तक को एक विशिष्ट उपन्यास क्यों समझा जाता है? इस उपन्यास की कोई दो विशेषताएँ लिखिए। 1+2=3

21. भारत में भूमि पर विभिन्न प्रकार की भू-आकृतियों के होने के प्रमुख लाभ क्या हैं? 3

22. वन्य प्राणियों तथा वनों के विनाश के किन्हीं तीन दुष्प्रभावों की व्याख्या किजिए। 3x1=3

23. क्या आप सहमत हैं कि जल संसाधनों का संरक्षण तथा प्रबंधन आज के समय की मांग है? किन्हीं तीन उपयुक्त तर्कों द्वारा अपने उत्तर की पुष्टि किजिए। 3x1=3

24. 1970 तथा 1993 के बीच, बैल्जियम के संविधान का संशोधन कितनी बार हुआ ? बैल्जियम में सत्ता में साझेदारी की व्यवस्था के किन्हीं दो सकारात्मक प्रभावों का उल्लेख किजिए। 1+2=3
25. 'सभी सामाजिक मतभेद, सामाजिक विभाजन को जन्म देते हैं। इस कथन को न्यायसंगत सिद्ध किजिए। 3x1=3
26. "लोकतंत्र में सामाजिक विभाजनों की राजनीतिक अभिव्यक्ति एक आम बात है।" तीन उपर्युक्त तर्कों द्वारा इस कथन का समर्थन किजिए। 3x1=3
27. भारत में जातिप्रथा के पतन के किन्हीं तीन कारणों की व्याख्या कीजिए। 3x1=3
28. विश्व विकास रिपोर्ट, 2006 के अनुसार धनाढ्य देशों तथा कम आय वाले देशों को श्रेणीबद्ध करने का आधार क्या है ? भारत इन में से किस श्रेणी में आता है और क्यों ? 2+1=3
29. शिशु मृत्यु दर (आई एम आर) से क्या अभिप्राय है ? केरल में कम शिशु मृत्यु दर के दो मुख्य कारण बताइए। 1+2=3
30. संगठित तथा असंगठित क्षेत्र कों में पाई जाने वाली रोजगार की स्थितियों की तुलना किजिए। 1½+1½=3
31. भारत में तृतीयक क्षेत्रक को इतना महत्वपूर्ण बनाने के लिए उत्तरदायी किन्हीं तीन कारकों को उजागर किजिए। 3x1=3
32. 'व्यापार अधिशेष' को परिभाषित किजिए। अंग्रेजों ने भारत के साथ व्यापार से प्राप्त 'व्यापार अधिशेष' का प्रयोग किस प्रकार किया ? 1+3=4

#### अथवा

19 वीं शताब्दी के कारखानों में तकनीकी परिवर्तन धीरे धीरे क्यों हुए हैं। कोई चार तर्क दीजिए। 4x1=4

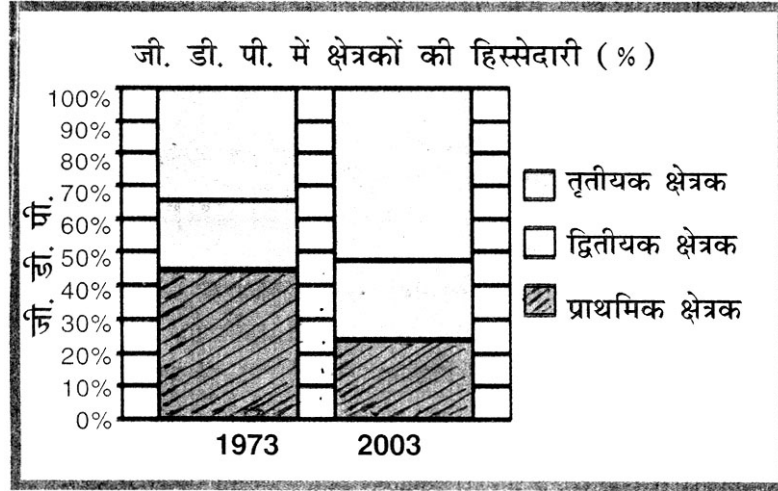
#### अथवा

उन्नीसवीं शताब्दी के अन्त में, नगरों के विकास ने किस प्रकार पारिस्थितीतिकी को और पर्यावरण को प्रभावित किया ? कलकत्ता के उदाहरणों की सहायता से अपने उत्तर को समझाइए। 2+2=4

33. भारत में उगाए जाने वाली चार रेशेदार फसलों के नाम लिखिए। इन में से कौन सा रेशा सीधे रूप में फसल उगाने से प्राप्त नहीं होता। इस रेशे के उत्पादन के लिए अपनाई जानेवाली प्रक्रिया का नाम लिखिए। 2+1+1=4
34. भारत की भाषा नीति का संक्षिप्त में वर्णन कीजिए। 4

35. नीचे दिए गए आरेख का अध्ययन कीजिए तथा निम्नलिखित प्रश्नों के उत्तर दीजिए।

1+2+1=4



35.1 1973 में सर्वाधिक उत्पादन वाला क्षेत्रक कौनसा था ?

35.2 2003 में सर्वाधिक उत्पादन वाला क्षेत्रक कौनसा था ?

35.3 2003 में सकल घरेलू उत्पाद (जी.डी.पी.) में द्वितीयक क्षेत्रक का योगदान कितने प्रतिशत है ?

35.4 1973 में जी.डी.पी. (%) में तृतीयक क्षेत्रक का लगभग कितना योगदान है ?

नोट : दृष्टिहीन परीक्षार्थियों के लिए, प्रश्न संख्या ३५ के स्थान पर

निम्नलिखित प्रश्नों के उत्तर दीजिए :

(a) 1973 - 2003 के मध्य किस क्षेत्रक का उत्पादन अधिकतम था ?

(b) भारत में तृतीयक क्षेत्रक इतना महत्वपूर्ण क्यों बनता जा रहा है ?

(c) अधिकांश लोग प्राथमिक क्षेत्रक से बाहर क्यों नहीं निकल सके ?

36. भारत के दिए गए राजनीतिक रेखा मानचित्र में क्रमांक 1 से 3 द्वारा तीन लक्षण दर्शाए गए हैं। नीचे दी गई जानकारी की सहायता से उन्हें पहचानिए तथा निर्धारित स्थान पर उनके सही नाम लिखिए।

3x1=3

1. मृदा प्रकार

2. बाघ रिजर्व

3. प्रमुख चाय उत्पादक राज्य

अथवा

पहचान के लिए दिए गए मानचित्र में ही निम्नलिखित को दर्शाइए तथा उनके नाम लिखिए।

(a) सलाल डैम

(b) सरिस्का वन्य प्राणी पशुविहार

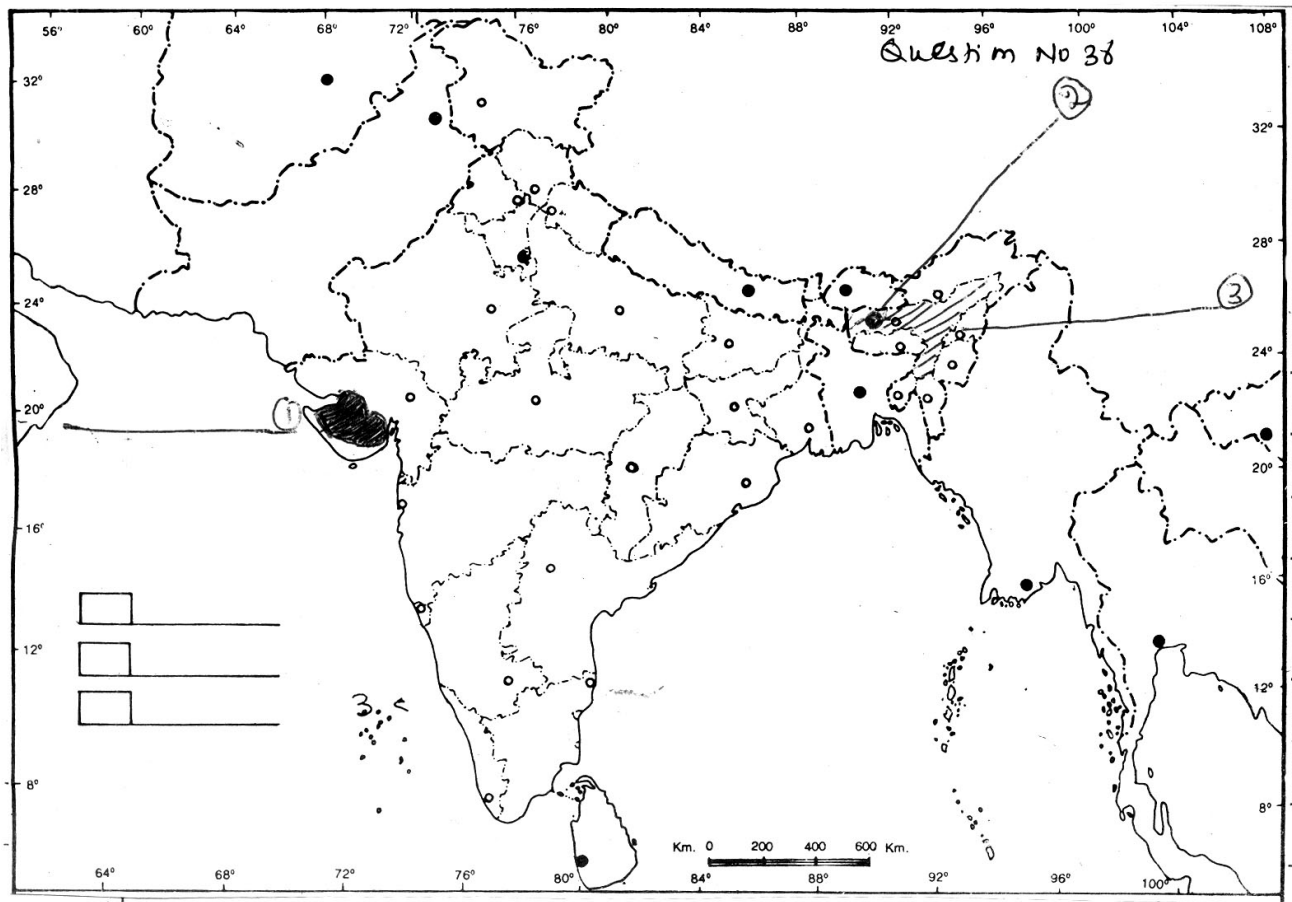
(c) सर्वाधिक मक्का उत्पादक राज्य

**Note :** केवल दृष्टिहीन छात्रों के लिए, प्रश्न संख्या 36 के स्थान पर। निम्नलिखित प्रश्नों के उत्तर दीजिए :

36.1 असम के बाघ रिजर्व का नाम लिखिए।

36.2 उस राज्य का नाम लिखिए जहाँ सलाल डैम स्थित है।

36.3 भारत के सर्वाधिक मक्का उत्पादक राज्य का नाम लिखिए।



- o o o -