

1080716 - C1

Class - X

कक्षा - X

SOCIAL SCIENCE

सामाजिक विज्ञान

Time : 3 hours

समय : 3 घंटे

Maximum Marks : 80

अधिकतम अंक : 80

Total No. of Pages : 13

कुल पृष्ठों की संख्या : 13

Instructions :

1. The question paper has 36 questions in all. All questions are **compulsory**.
2. Marks are indicated against each question.
3. This question paper consists of **two** parts i.e. **Part-I** and **Part-II**. Part-I of this question paper contains Multiple Choice Questions (MCQs) from serial number 1 to 16 of 1 mark each. These sixteen questions of Part-I are to be answered on a separate sheet provided. This part has to be completed in first **30 minutes only** and the answer sheet must be handed over to the invigilator before starting Part-II.
4. In Part-II of the question paper, there are 20 questions from serial no. 17 to 36. These questions are to be attempted in **2 hours and 30 minutes**. This part should be attempted only after the stipulated time given for Part-I.
5. Questions from serial number 17 to 31 are 3 marks questions. Answer of these questions should not exceed **80 words** each.
6. Questions from serial number 32 to 35 are 4 marks questions. Answer of these questions should not exceed **100 words** each.
7. Question number 36 is a map question of 3 marks from Geography only. After completion, attach the map inside your answer book.
8. An additional 15 minutes time has been allotted to read this question paper only.

निर्देश :

1. इस प्रश्न-पत्र में कुल 36 प्रश्न हैं। सभी प्रश्न **अनिवार्य** हैं।
2. प्रत्येक प्रश्न के निर्धारित अंक प्रश्न के सामने दिये गये हैं।
3. यह प्रश्न-पत्र दो भागों में विभाजित है : **भाग-I** और **भाग-II**। भाग-I में प्रश्न संख्या 1 से 16 तक है। इन बहु-विकल्पीय प्रश्नों के उत्तर अलग से दी गई उत्तर पुस्तिका में लिखें। इसके लिये समय अवधि आधा घण्टा तय है। अपने उत्तर पूरा करने के बाद उत्तर पुस्तिका अपने निरीक्षक को सौंप दें। तब भाग दो आरंभ करें।
4. भाग-II प्रश्न-पत्र में 20 प्रश्न दिये गये हैं। प्रश्न 17 से 36 प्रश्नों को हल करने की अवधि **2 घंटे 30 मिनट** है।
5. प्रश्न संख्या 17 से 31 तक के प्रत्येक प्रश्न **तीन-तीन** अंकों के हैं। इन प्रश्नों के उत्तर **80 शब्दों** से अधिक न हो।
6. प्रश्न संख्या 32 से 35 तक के प्रत्येक प्रश्न **चार-चार** अंकों के हैं। इन प्रश्नों के उत्तर **100 शब्दों** से अधिक न हो।
7. प्रश्न संख्या 36 मानचित्र भूगोल विषय का 3 अंकों का है। प्रश्न पूरा होने पर मानचित्र को अपनी उत्तर-पुस्तिका के भीतर संलग्न करें।
8. इस प्रश्न-पत्र को पढ़ने के लिए 15 मिनट का समय दिया गया है। इस अवधि के दौरान छात्र केवल प्रश्न-पत्र को पढ़ेंगे और वे उत्तर-पुस्तिका पर कोई उत्तर नहीं लिखेंगे।

PART - I

1. In which year did the big European Powers meet in Berlin to complete the carving up of Africa between them? **1**
(A) 1885 (B) 1890 (C) 1914 (D) 1918
OR
Whom did the British government appoint to supervise weavers, collect supplies and examine the quality of cloth? **1**
(A) Jobber (B) Sepoy (C) Policeman (D) Gomastha
OR
A variety of steps were taken to clean up which one of the following cities. **1**
(A) Chicago (B) Berlin (C) New York (D) London
2. Which among the following is referred to as the 'Bretton Woods twins'? **1**
(A) The IMF and the World Bank (B) The IMF and the WTO
(C) The World Bank and the WTO (D) None of the above
OR
Which among the following cities had trade links with South Asian ports? **1**
(A) Masulipatam and Hoogly (B) Masulipatam and Surat
(C) Surat and Bombay (Mumbai) (D) None of the above
OR
The very first section of the underground railway in the world opened on 10th January 1863 between which two stations? **1**
(A) Farrington street to Bakers Station
(B) Paddington Street to Farrington Street
(C) Paddington Street to Bakers Station
(D) None of the above
3. Who among the following agreed to revise press Laws? **1**
(A) Lord Cornwallis (B) Lord Dalhousie
(C) Governor General Bentinck (D) None of the above
OR
Who among the following is the author of the novel 'Mayor of Casterbridge'? **1**
(A) R. L. Stevenson (B) Thomas Hardy
(C) Charles Dickens (D) Leo Tolstoy
4. Who wrote her autobiography 'Amar Jiban' published in 1876? **1**
(A) Tara Bai Shinde (B) Rash Sundari Debi
(C) Pandita Rama Bai (D) Kailashbashini Debi
OR
Who among the following did not write about colonialism? **1**
(A) Daniel Defoe (B) Joseph Conrad
(C) Rudyard Kipling (D) None of above

5. Which one of the following is not a renewable resource? 1
 (A) Solar energy (B) Wind energy
 (C) Forests (D) Fossil Fuels
6. Sunderban National Park is located in which state? 1
 (A) Assam (B) West Bengal (C) Tripura (D) Gujarat
7. Nagarjuna Sagar Dam is built on which river? 1
 (A) Chenab (B) Mahanadi (C) Krishna (D) Satluj
8. Which one of the following is not a cropping season? 1
 (A) Winter (B) Kharif (C) Rabi (D) Zaid
9. Which one of the following communities is not related to Sri Lanka? 1
 (A) Sinhals (B) Indian Tamils
 (C) Parsis (D) Srilankan Tamils
10. What is the percentage of German speaking people in Belgium? 1
 (A) 59 (B) 40 (C) 60 (D) 01
11. Which one of the following subjects is included in the concurrent list? 1
 (A) Banking (B) Trade (C) Police (D) Education
12. What is the percentage of Literacy rate among women in India? 1
 (A) 54 (B) 58 (C) 62 (D) 76
13. Which of the following is true of the people's goals in addition to higher income ? 1
 (A) equal treatment (B) freedom
 (C) respect and security (D) All the above
14. The developmental goal for a girl from a rich family is : 1
 (A) To get more days of work
 (B) To get as much freedom as her brother gets
 (C) To get electricity
 (D) To get better wages
15. Which one of the following occupations falls in the tertiary sector ? 1
 (A) agriculture (B) dairy (C) communication (D) forestry
16. Identify the feature of the unorganised sector? 1
 (A) Rules and regulations are followed
 (B) Workers enjoy security of employment
 (C) Employment is not secure
 (D) It follows some formal processes and procedures.

Part II

17. Mention the three types of movements or flows within the international economic exchange in the 19th century. 3x1=3
- OR**
- Mention any three restrictions imposed by the British government upon the Indian merchants in the 19th Century ? 3x1=3
- OR**
- Who was Ebenezer Howard? Explain the principle of the Garden city developed by him. 3x1=3
18. Explain any three reasons for an increase in reading mania in Europe in the 18th century? 3x1=3
- OR**
- Highlight any three Social changes in Britain which led to an increase in women readers. 3x1=3
19. How did the print culture assist the growth of nationalism in India? 3
- OR**
- In what way was woman depicted in Charlotte Brontë's novel 'Jane Eyre'? 3
20. Why were manuscripts not used widely in everyday life before the age of print in India ? 3x1=3
- OR**
- 'Drawn from various Strata of Society, Premchand's characters create a community based on democratic values' substantiate the above statement with examples from any of his novels. 3
21. What are the three stages of Resource Planning in India ? 3x1=3
22. Which three human activities are responsible for the depletion of flora and fauna? Explain. 3x1=3
23. Describe any three traditional methods of rainwater harvesting adopted in different parts of India? 3x1=3
24. What is the difference between the policies adopted by Belgium and Sri Lanka regarding power sharing arrangement? 3x1=3
25. 'Social division takes place when some social differences overlap with other differences ? Justify the statement with the help of any three suitable examples. 3x1=3
26. 'How far is it correct to say that Social divisions exist only in big countries like India? Explain. 3x1=3

27. What are the factors other than the caste which play a decisive role at the time of the election? 3
28. Explain any three main aspects of measuring Human Development Index according to UNDP Report of 1990. 3x1=3
29. What is meant by Economic development? What are the two bases of measuring economic development of a country? 1+2=3
30. Highlight any three differences between intermediate goods and final goods? 1½+1½=3
31. Why has the government taken up the responsibility of public sector activities in a country like India? Explain any three reasons. 3x1=3
32. What were 'Corn Laws'? How did the abolition of 'corn laws' affect the people of England? 1+3=4

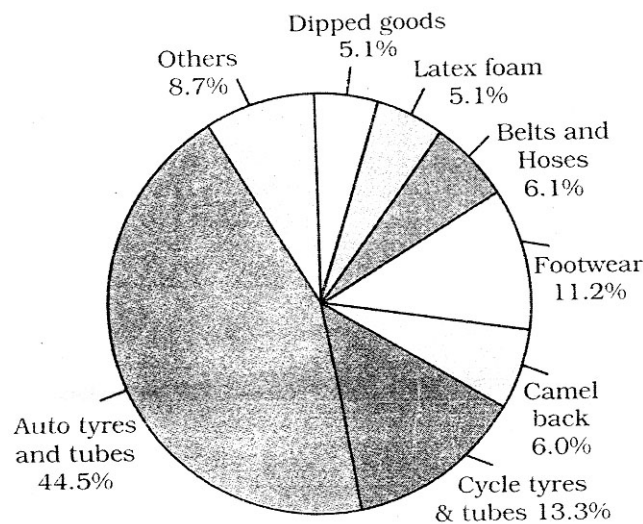
OR

Describe any four impacts of Manchester imports on the cotton weavers of India. 4x1=4

OR

Mention any four of entertainment that came up in the nineteenth century England for the common people? 4x1=4

33. Study the given diagram and answer the questions given below : 4x1=4



- 33.1 Which crop is used for making the goods listed in the diagram?
- 33.2 Which types of goods occupy the highest percentage?
- 33.3 Mention any one climatic condition required for the growth of this crop.
- 33.4 Name any two major producing states of this crop.

For visually impaired candidates and in lieu of Q No. 33

- (a) Which crop provides raw material for goods like latex foam, tyres and tubes, footwear etc.
- (b) Which state in the north - east produces this crop?
- (c) Mention any one climatic condition required for the growth of this crop.
- (d) Where does India rank among the producers of this crop?

34. Describe the three fold distribution of legislative powers between the Union government and the State governments. Who can make laws on the subjects which are not covered under these lists and what name has been given to such subjects ? **4x1=4**
35. Describe any four factors that have contributed to the growth of tertiary sector. **4x1=4**
36. Three features with serial number 1 to 3 are marked on the given political outline map of India. Identify those features with the help of the following information and write their correct names on the lines marked in the Map. **3**
- 1. A type of soil
 - 2. A Tiger Reserve
 - 3. The leading Jute producing state

OR

Locate and label the following items on the same Map.

- (a) Sardar Sarovar Dam
- (b) Corbett National Park
- (c) The largest producing state of Ragi.

Note : The following question is for the visually impaired candidates only in lieu of Q. No. 36.

Answer the following questions :

- 36.1 Name the state where Sardar Sarovar dam is built
- 36.2 Name the Tiger Reserve of Assam
- 36.3 Name the leading Ragi producing State of India.

- o o o -

भाग - I

1. यूरोप की बड़ी शक्तियों ने अफ्रीका के नक्शे पर लकीरें खींच कर उसको आपस में बाँटने के लिए बर्लिन की बैठक किस वर्ष में की ? 1

(A) 1885 (B) 1890 (C) 1914 (D) 1918

अथवा

- बुनकरों पर निगरानी रखने, माल इकट्ठा करने और कपड़ों की गुणवत्ता जांचने के लिए ब्रिटिश सरकार ने किस की नियुक्ति की ? 1

(A) जाँबर (B) सिपाही (C) पुलिसमैन (D) गुमास्ता

अथवा

- निम्नलिखित में से किस नगर की सफाई के लिए अनेक कदम उठाए गए ? 1

(A) शिकागो (B) बर्लिन (C) न्यूयॉर्क (D) लंदन

2. निम्नलिखित में किसे बेटन वुड्स की जुड़वा संतान कहा जाता है ? 1

(A) आई.एम.एफ. तथा विश्व बैंक (B) आई.एम.एफ. तथा डब्ल्यू. टी. ओ.
(C) विश्व बैंक तथा डब्ल्यू. टी. ओ. (D) उपरोक्त में से कोई नहीं ।

अथवा

- निम्नलिखित में से किस नगर का दक्षिण एशिया की बन्दरगाहों से व्यापारिक सम्बंध थे ? 1

(A) मछलीपटनम और हुगली (B) मछलीपटनम और सूरत
(C) सूरत और बम्बई (D) उपरोक्त में से कोई नहीं

अथवा

- 10 जनवरी 1863 को विश्व की प्रथम भूमिगत रेल का पहला खंड किन दो नगरों के बीच प्रारम्भ हुआ ? 1

(A) फैरिंग्टन स्ट्रीट से बेकर स्टेशन
(B) पेडिंगन स्ट्रीट से फैरिंग्टन स्ट्रीट
(C) पेडिंगन स्ट्रीट से बेकर स्टेशन
(D) उपरोक्त में से कोई नहीं

3. निम्नलिखित में किसने (प्रेस लॉज) प्रैस कानून में संशोधन करना मान लिया ? 1

(A) लार्ड कार्नवालिस (B) लॉर्ड डलहौसी
(C) गवर्नर जनरल बेंटिक (D) उपरोक्त में से कोई नहीं

अथवा

- ‘मेयर ऑफ़ केस्टर ब्रिज’ नामक उपन्यास के लेखक कौन हैं ? 1

(A) आर. एल. स्टीवेन्सन (B) थॉमस हार्डी
(C) चार्ल्स डिकेन्स (D) लियो टालस्टाय

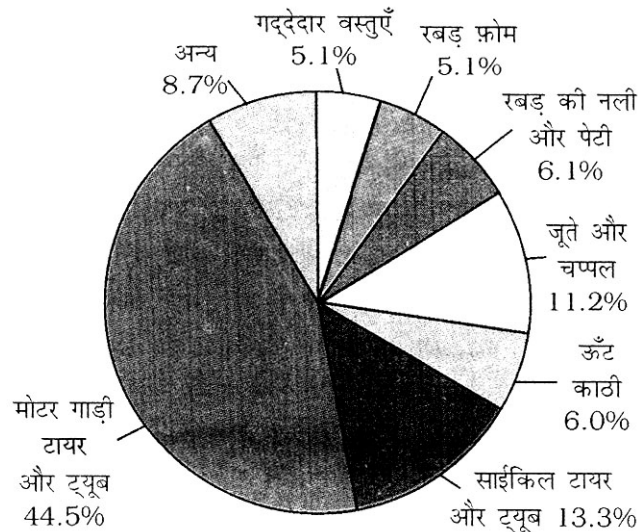
4. 1876 में प्रकाशित आत्मकथा 'आमार जीवन' की लेखिका कौन हैं? 1
- (A) ताराबाई शिंदे (B) रश सुंदरी देबी
(C) पंडिता रमाबाई (D) कैलाशबाशिनी देबी
- अथवा**
- निम्नलिखित में से किसने उपनिवेशवाद के बारे नहीं लिखा? 1
- (A) डैनियल डेफो (B) जोसेफ कानरैड
(C) रडयार्ड किपलिंग (D) उपरोक्त में कोई नहीं
5. निम्नलिखित में से कौन सा संसाधन एक नवीकरणीय संसाधन नहीं है? 1
- (A) सौर उर्जा (B) पवन उर्जा (C) वन (D) जीवाश्म ईंधन
6. सुंदरबन राष्ट्रीय पार्क किस राज्य में स्थित है? 1
- (A) असम (B) पश्चिम बंगाल (C) त्रिपुरा (D) गुजरात
7. नागार्जुन सागर बांध किस नदी पर स्थित है? 1
- (A) चेनाब (B) महानदी (C) कृष्णा (D) सतलुज
8. निम्नलिखित में से कौन सी ऋतु एक शस्य ऋतु नहीं है? 1
- (A) शीतकाल (B) खरीफ (C) रबी (D) जैद
9. निम्नलिखित में किस समुदाय का सम्बंध श्रीलंका से नहीं है? 1
- (A) सिंहला (B) भारतीय तमिल (C) पारसी (D) श्रीलंका के तमिल
10. बैल्जियम में जर्मन भाषी लोग कितने प्रतिशत हैं? 1
- (A) 59 (B) 40 (C) 60 (D) 01

11. निम्नलिखित में से कौन सा विषय, समवर्ती सूची में शामिल है? 1
(A) बैंकिंग (B) व्यापार (C) पुलिस (D) शिक्षा
12. भारत में महिलाओं की साक्षरता दर कितने प्रतिशत है? 1
(A) 54 (B) 58 (C) 62 (D) 76
13. बेहतर आमदनी के अतिरिक्त, निम्नलिखित में से कौन सा लक्ष्य, व्यक्ति की आकांक्षाओं के अनुरूप है? 1
(A) समान व्यवहार (B) स्वतंत्रता
(C) सम्मान तथा सुरक्षा (D) उपरोक्त सभी
14. निम्नलिखित में से कौन सा लक्ष्य, अमीर परिवार की एक लड़की के विकास का लक्ष्य हैं? 1
(A) काम करने के अधिक दिन
(B) अपने भाई के जैसी स्वतंत्रता मिलना
(C) बिजली प्राप्त करना
(D) बेहतर मजदूरी प्राप्त करना
15. निम्नलिखित में से कौन सा व्यवसाय तृतीयक क्षेत्रक के अंतर्गत आता है? 1
(A) कृषि (B) दुग्ध उत्पादन (C) संचार (D) वानिकी
16. असंगठित क्षेत्रक का लक्षण पहचानिए : 1
(A) नियम तथा कानूनों का पालन होता है।
(B) कर्मचारियों को रोजगार की सुरक्षा प्राप्त होती है।
(C) रोजगार की सुरक्षा नहीं होती है।
(D) निश्चित प्रक्रिया तथा विधियों का पालन किया जाता है।

भाग - II

17. 19 वी शताब्दी में अंतरराष्ट्रीय आर्थिक विनिमय में तीन तरह की गतियों या प्रवाहों का उल्लेख कीजिए । 3x1=3
- अथवा**
- उत्तरसर्वी शताब्दी में ब्रिटिश सरकार द्वारा भारतीय व्यापारियों पर लगाए गए किन्हीं तीन प्रतिबंधों का उल्लेख कीजिए । 3x1=3
- अथवा**
- एबेनेजर हार्वर्ड कौन था ? उसके द्वारा प्रस्तुत गार्डन सिटी की अवधारणा को स्पष्ट कीजिए । 3x1=3
18. 18 वीं शताब्दी में यूरोप में पढ़ने के जुनून में वृद्धि के कोई तीन कारणों की व्याख्या कीजिए । 3x1=3
- अथवा**
- ब्रिटेन में महिला पाठकों में वृद्धि के लिए उत्तरदायी किन्हीं तीन सामाजिक परिवर्तनों को उजागर कीजिए । 3x1=3
19. मुद्रण संस्कृति ने भारत में राष्ट्रवाद के उत्थान में किस प्रकार सहायता की ? 3
- अथवा**
- शार्लोट ब्रांट द्वारा लिखित उपन्यास 'जेन आयर' में महिलाओं का चित्रण किस प्रकार किया गया है ? 3
20. मुद्रण युग से पहले भारत में दिन प्रतिदिन के जीवन में पांडुलिपियों का प्रयोग व्यापक रूप से क्यों नहीं होता था ? 3x1=3
- अथवा**
- 'समाज के विभिन्न तबकों से आते प्रेमचंद के पात्र जनवादी मूल्यों पर आधारित समाज बनाते दिखते हैं ।' 3
- उस के किसी एक उपन्यास से उदाहरण लेकर उपरोक्त कथन की पुष्टि कीजिए ।
21. भारत में संसाधन नियोजन के तीन सौपान कौन कौन से हैं ? 3x1=3
22. वन्य प्राणी तथा वनस्पति के ह्रास के लिए कौन सी तीन मानव क्रियाएं उत्तरदायी हैं ? व्याख्या कीजिए । 3x1=3
23. भारत के भिन्न-भिन्न भागों में अपनाए जानेवाली किन्हीं तीन पारम्परिक जल संग्रहण की विधियों का वर्णन कीजिए । 3x1=3
24. सत्ता में साझेदारी की व्यवस्था के सम्बंध में बैल्जियम तथा श्रीलंका की नीतियों में क्या अंतर था ? 3x1=3
25. "सामाजिक विभाजन तब होता है जब कुछ सामाजिक अंतर दूसरी अनेक विभिन्नताओं के ऊपर और बड़े हो जाते हैं ।" कोई तीन उपयुक्त उदाहरण देकर इस कथन को पुष्टि कीजिए । 3x1=3

26. यह कहना कहाँ तक उचित है कि केवल भारत जैसे बड़े देशों में ही समाज विभाजन विद्यमान है? व्याख्या करें $3 \times 1 = 3$
27. जाति के अतिरिक्त, वे अन्यकारक कौन से हैं जो चुनाव के समय निर्णायक भूमिका निभाते हैं? 3
28. यू.एन.डी.पी.की 1990 की रिपोर्ट के अनुसार मानव विकास सूचकांक को मापने के किन्हीं तीन मुख्य पहलुओं की व्याख्या कीजिए। $3 \times 1 = 3$
29. 'आर्थिक विकास' से क्या अभिप्राय है? किसी देश के आर्थिक विकास को मापने के दो आधार कौन से हैं? $1 + 2 = 3$
30. मध्यवर्ती वस्तुओं तथा अंतिम वस्तुओं में अंतर स्पष्ट करनेवाले किन्हीं तीन बिन्दुओं को उजागर कीजिए। $1\frac{1}{2} + 1\frac{1}{2} = 3$
31. भारत जैसे देश में सार्वजनिक क्षेत्र की गतिविधियों को सरकार द्वारा अपने हाथों में रखने के किन्हीं तीन कारणों की व्याख्या कीजिए। $3 \times 1 = 3$
32. 'कार्न लॉज' से क्या अभिप्राय है। इस कानून के समाप्त करने से इंग्लैंड के लोगों पर क्या प्रभाव पड़ा? $1 + 3 = 4$
- अथवा**
- मैनचेस्टर आयात के कारण भारत में सूती वस्त्रों के बुनकरों पर पड़े किन्हीं चार प्रभावों का वर्णन कीजिए। $4 \times 1 = 4$
- अथवा**
- उत्तरसर्ग शताब्दी के इंग्लैंड में आम आदमी के लिए मनबहलाव की किन्हीं चार विधियों का वर्णन कीजिए। $4 \times 1 = 4$
33. दिए गए चित्र का अध्ययन कीजिए तथा निम्न प्रश्नों का उत्तर दीजिए। $4 \times 1 = 4$



33.1 चित्र में दर्शाई गई वस्तुओं के निर्माण में कौन सी फसल का प्रयोग होता है ?

33.2 किस प्रकार की वस्तुओं का प्रतिशत सर्वाधिक है ?

33.3 इस फसल के उत्पादन के लिए आवश्यक जलवायु की दशाओं का उल्लेख कीजिए ।

33.4 इस फसल के सब से बड़े उत्पादक दो राज्यों के नाम लिखिए ।

दृष्टिहीन परीक्षार्थियों के लिए प्रश्न संख्या 33 के स्थान पर

(a) लेटक्स फोम, टायर ट्यूब तथा जूते बनाने के लिए कौन सी फसल की प्रयोग होता है ।

(b) उत्तरपूर्व भोरा में यह फसल किस राज्य में पैदा होती है ?

(c) इस फसल के उत्पादन के लिए आवश्यक कोई एक जलवायु सम्बन्धी दशा बताइए ।

(d) इस फसल के उत्पादकों में भारत का कौन सा स्थान है ?

34. संघ सरकार तथा राज्य सरकारों में त्रिविध विधायी शक्तियों के विभाजन का वर्णन कीजिए । उन विषयों पर कौन कानून बनाता है जिन की चर्चा इन तीन सूचियों में नहीं की गई ? ऐसे विषयों को किस नाम से जाना जाता है ?

4x1=4

35. तृतीयक क्षेत्रक के विकास में सहायक किन्हीं चार कारकों का वर्णन कीजिए ।

4x1=4

36. भारत के दिए गए राजनीतिक रेखा मानचित्र में क्रमांक 1-3 द्वारा तीन लक्षण दिखाए गए हैं । नीचे दी गई सूचना के आधार पर उन्हें पहचानिए और मानचित्र में दी हुई रेखाओं पर उनके सही नाम लिखिए ।

3

1. एक मृदा प्रकार

2. एक बाघ रिजर्व

3. अग्रणि जूट उत्पादक राज्य

अथवा

दिए हुए मानचित्र पर निम्नलिखित को उपर्युक्त चिन्हों द्वारा दर्शाइए और उन के सही नाम लिखिए ।

(a) सरदार सरोवर डैम

(b) कार्बेट नैशनल पार्क

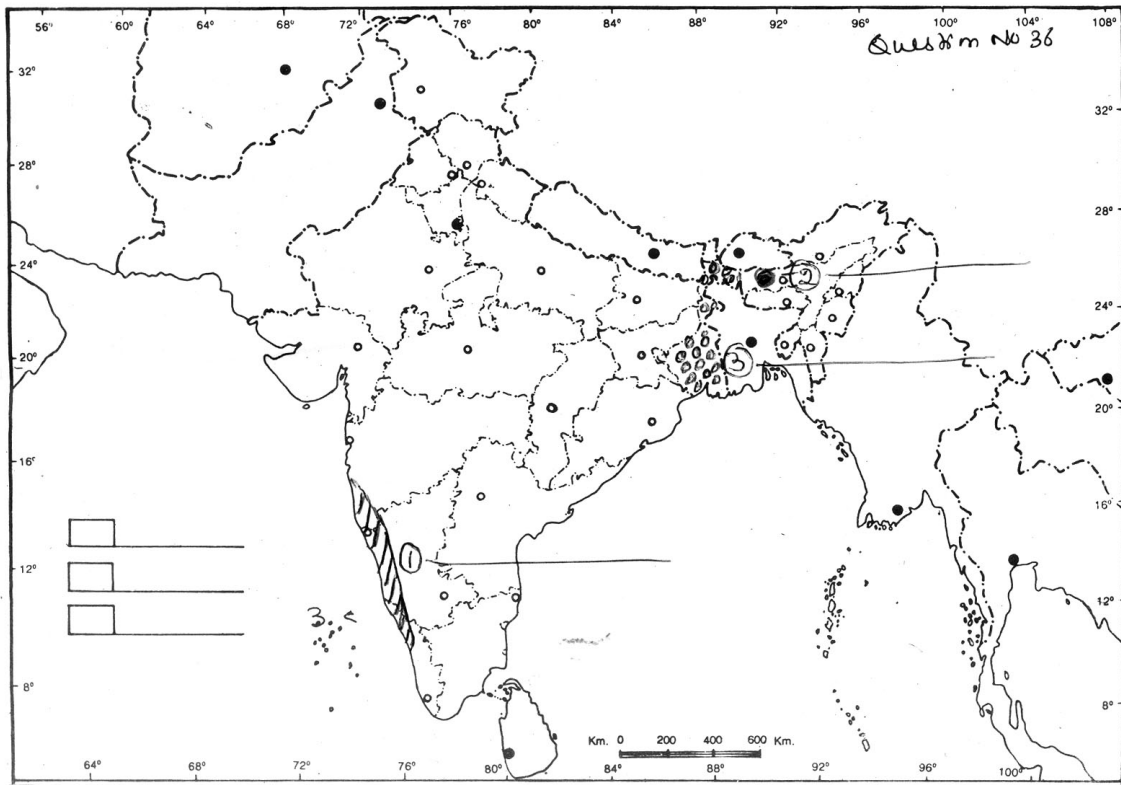
(c) सर्वाधिक रागी उत्पादक राज्य

नोट : दृष्टिहीन परीक्षार्थियों के लिए, प्रश्न संख्या 36 के स्थान पर निम्नलिखित प्रश्नों के उत्तर दीजिए ।

36.1 उस राज्य का नाम लिखिए जहां सरदार सरोवर बांध स्थित है ।

36.2 असम के टाईगर रिजर्व का नाम लिखिए ।

36.3 सर्वाधिक रागी उत्पादक राज्य का नाम लिखिए ।



- o o o -